

8. दिइएका जोडा विचार गरी सही कोड छनौट गर्नुहोस्
- a. Father of Zoology - अरस्तु
b. Father of Botany - थियोफ्रेटस
- a. A र B दुवै सही
b. A सही, B गलत
c. B सही, A गलत
d. A र B दुवै गलत
- (a) (b) (c) (d)
9. पहिलो पटक "नेपालमा मृत्युदण्ड दिने गरी कानून नबनाइने" भनी कुन संविधानमा उल्लिखित गरिएको थियो?
- a. अन्तरिम शासन विधान २००७
b. नेपाल अधिराज्यको संविधान २०४७
c. नेपालको संविधान २०१९
d. नेपालको अन्तरिम संविधान २०६३
- (a) (b) (c) (d)
10. तलका विभिन्न उपकरण र तिनिहरूको उपयोगबिचको जोडा विचार गरी गलत जोडा छनौट गर्नुहोस् ।
- a. ल्याक्टोमिटर → दूधको शुद्धता नाप्ने यन्त्र
b. हाइग्रो मीटर → पानीको घनत्व पत्ता लगाउने यन्त्र
c. रेन गज → वर्षाको मात्रा नाप्ने यन्त्र
d. क्यालोरिमिटर → तापको परिणाम नाप्ने यन्त्र
- (a) (b) (c) (d)
11. अन्तराष्ट्रिय पर्वतिय उद्यान कहाँ रहेको छ?
- a. पोखरा
b. ककनी
c. मनाङ
d. मुस्ताङ
- (a) (b) (c) (d)
12. नेपालको संविधान बमोजिम नेपालको परराष्ट्र सम्बन्धको आधार कुन होइन ?
- i. असंलग्नता
ii. सार्क वडापत्र
iii. विश्वशान्तीको मान्यता
iv. अन्तराष्ट्रिय कानून
- a. i, ii, iv मात्र
b. i, iii, iv, मात्र
c. ii, iii मात्र
d. ii मात्र
- (a) (b) (c) (d)
13. नेपालले कहिलेदेखि शान्ति सेनामा भाग लिन सुरु गरेको हो ?
- a. सन् १९६८, लेबनान
b. सन् १९७८ यमन
c. सन् १९५८ लेबनान
d. सन् १९४८ यमन
- (a) (b) (c) (d)
14. नेपालको कृषि उत्पादनको हिसाबले बढीदेखि कमको क्रम कुन सही छ?
- a. मकै, धान, गहुँ, कोदो
b. धान, मकै, गहुँ, कोदो
c. गहुँ, धान, कोदो, मकै
d. कोदो, धान, मकै, गहुँ
- (a) (b) (c) (d)
15. कुन राजमार्गलाई कालु पाण्डे मार्ग भनेर चिनिन्छ ?
- a. आबुखैरेनी - गोरखा
b. मलेखु- धादिङवेशी
c. पोखार - बाग्लुङ
d. धनकुटा- विराटनगर
- (a) (b) (c) (d)
16. तलकामध्ये गलत कथन छनौट गर्नुहोस् ।
- a. "French open" एक महत्वपूर्ण टेनिस प्रतियोगिता हो ।
b. French open लाई Clay Court Tournament पनि भनिन्छ ।
c. यसको उपाधी सन् २०२० मा जित्ने खेलाडी नोभाक जोकोभिक हुन् ।
d. यसको उपाधी सबैभन्दा धेरै जित्ने खेलाडी राफेल नाडाल हुन् ।
- (a) (b) (c) (d)

17. तलको मध्ये गलत कथन छनौट गर्नुहोस् ।
- a. सबैभन्दा छोटो दिन हुने ग्रह बुध हो । b. असफल ताराको उपनामले चिनिने ग्रह अरुण हो ।
c. मंगल ग्रहका दुईवटा उपग्रह रहेका छन् । d. पहेंलो ग्रह भनी शनी ग्रहलाई चिनिन्छ । (a) (b) (c) (d)
18. हेमन्त ऋतु कुन कुन महिनामा पर्दछ ?
- a. चैत्र / वैशाख b. असोज / कार्तिक (a) (b) (c) (d)
c. मंसिर/पौष d. माघ/ फाल्गुण
19. तल दिइएका भनाइमध्ये कुन साँचो होइन?
- a. नेपालबाट सबभन्दा नजिकको तेस्रो मुलुक बंगलादेश २७ किमि टाढा छ ।
b. नेपालबाट सबभन्दा नजिकको चौथो मुलुक भुटान ३२ किलो मिटर टाढा छ ।
c. सार्क (SAARC) राष्ट्रमध्ये नेपालबाट सबभन्दा नजिकको राजधानी भुटानको थिम्पु हो ।
d. सार्क (SAARC) राष्ट्रमध्ये नेपालबाट सबभन्दा टाढाको राजधानी माल्दिभ्सको माले हो ।
- a. A/B b. C/D
c. A /D d. कुनै पनि होइन (a) (b) (c) (d)
20. क्षेत्रफलको आधारमा विश्वका साना देशहरूको क्रम कुन ठिक छ ?
- a. सानमारिनो, नाउरु, टुभालु, मानाको, भ्याटिकन सिटी
b. भ्याटिकन सिटी, मोनाको, नाउरु, टुभालु, सानमारिनो
c. नाउरु, मानाको, सानमारिनो, टुभालु, भ्याटिकन सिटी
d. भ्याटिकन सिटी, टुभालु, नाउरु, मोनाको, सानमारिनो (a) (b) (c) (d)
21. मरुभूमी बिनाको महादेश कुन हो ?
- a. Asia b. Europe
c. N. America d. S. America (a) (b) (c) (d)
22. नेपालको नदी सम्बन्धी कुन भनाई बेठिक छ ?
- A. नेपालमा साना- ठूला गरी करिब ७००० नदीनाला छन् । (a) (b) (c) (d)
B. नेपालमा ११ KM भन्दा लामा नदी १००० भन्दा बढी छन् ।
c. नेपालमा १६० KM भन्दा लामा नदी १०० भन्दा बढी छन् ।
D. नेपालको कूल क्षेत्रफलको ९.९ % जलसम्पदाले ढाकेको छ ।
23. नेपालको उच्च स्थानमा रहेको मार्ग थोराङ पास कुन जिल्लामा पर्दछ ?
- a. मुस्ताङ b. ताप्लेजुङ
c. दाचुर्ला d. मनाङ (a) (b) (c) (d)
24. दिइएको तथ्य अध्ययन गरी गलत तथ्यलाई छुट्याउनुहोस् ।
- a. आर्युवेद शास्त्रका प्रवर्तक धनवन्तरी हुन् । (a) (b) (c) (d)
b. योगशास्त्रका प्रवर्तक पतञ्जली हुन्
c. धृतराष्ट्रका १०० भाइ छोरामध्ये पाण्डवको पक्षमा गई युद्धमा सहभागी हुन ययुत्सु हुन्
d. कुवेरको राजधानी अमरापुरी थियो ।

25. जोडा मिलाउनुहोस् ।

- | | |
|------------|------------|
| a. किसान | i. कारभोटे |
| b. लेप्चा | ii. कोचे |
| c. राजवंशी | iii. उराव |
| d. ल्होमी | iv. रोड |

कोडहरू

- | | | |
|------------------------------|-----------------------------------|-----------------|
| a. A- iii, B- iv, C- ii, d-i | b. A- iii, B-i, c-ii, D-iv | (a) (b) (c) (d) |
| c. A-iv, B-iii, c- ii, D- i | d. A - iv, B - iii, C - ii, D - i | |

26. तलका कथन अध्ययन गरि सही विकल्प छनौट गर्नुहोस् ।

- A. नेपालको इतिहासमा पहिलो जननिर्वाचन वि.सं. २०१५ सालमा भएको हो ।
B. पहिलो जननिर्वाचनमा प्रथम स्थान हासिल गर्ने पार्टी नेपाली काँग्रेस हो ।
C. पहिलो जननिर्वाचित सरकारको रक्षामन्त्री वि.पि. कोईराला थिए ।

- | | | |
|--------------------|-------------------|-----------------|
| a. A सही B र C गलत | b. A, B सही C गलत | (a) (b) (c) (d) |
| c. A, B, C सबै सही | d. A, C सही B गलत | |

27. तल कथन अध्ययन गरी सही विकल्प छनौट गर्नुहोस् ।

- A. नेपालको संघिय राजधानी काठमाण्डौ हो भनी नेपालको संविधानको धारा २८९ मा उल्लेख गरिएको छ ।
B. काठमाण्डौ समुन्द्र सतहको १३१० मिटर उचाईमा रहेको छ ।

- | | | |
|----------------|-------------|-----------------|
| a. A सही B गलत | b. A, B सही | (a) (b) (c) (d) |
| c. A गलत B सही | d. A, B गलत | |

28. विभिन्न विद्वान र उनीहरू जन्मेको देशको बारे गलत जोडा छनौट गर्नुहोस् ।

- | | |
|--|---------------------------|
| a. अब्राहम लिंकन - संयुक्त राज्य अमेरिका | b. मदर टेरेसा - अल्बानिया |
| c. जिसस क्राईस्ट - इजरायल | d. सुकरात - ईटली |

(a) (b) (c) (d)

29. कोपा अमेरिका प्रतियोगिता बारे सही कथन छनौट गर्नुहोस् ।

- a. यो प्रतियोगिता पौडी खेलसँग सम्बन्धित छ ।
b. यो प्रतियोगिता दक्षिण अमेरिकी राष्ट्रहरू सहभागी हुन्छन् ।
c. यो प्रतियोगितामा हालसम्म धेरै पदक पाउने राष्ट्र ऊरुग्वे हो ।
d. यो प्रतियोगिता हरेक २-२ वर्षमा संचालन हुन्छ ।

(a) (b) (c) (d)

30. जोडा विचार गर्नुहोस् (प्रतिनिधिसभा निर्वाचन)

- A. सबैभन्दा बढी मतान्तर सहित जित्ने - पार्वत गुरुङ
B. सबैभन्दा बढी मत ल्याउने - केपी ओली

- | | | |
|----------------|----------------|-----------------|
| a. A सही B गलत | b. B सही A गलत | (a) (b) (c) (d) |
| c. दुवै गलत | d. दुवै सही | |

31. कुनै खेत खन्न ८ जनालाई २४ दिन लाग्छ भने १२ जनालाई उक्त खेत खन्न कति दिन लाग्छ ?

- | | | |
|-----------|-----------|-----------------|
| a. १२ दिन | b. १६ दिन | (a) (b) (c) (d) |
| c. २० दिन | d. २२ दिन | |

41. सही छनौट गर्नुहोस् । गैडा : केटा :: हात्ति : ?

- a. केटी
b. छावा
c. टिउरो
d. बच्चा

(a) (b) (c) (d)

42. तल दिइएका भनाई (A) र कारण (R) सम्बन्धी वाक्यहरूको आधारमा सोधिएका प्रश्नको सामाधानका लागि सही विकल्प छनौट गर्नुहोस् ।

भनाई (A): बेरीबेरी भाइरल इन्फेक्सन हो ।

कारण (R): भिटामिनको अभावमा विभिन्न रोगहरू लाग्दछ ।

- a. A र R दुवै सही हुन र R, A को सही व्याख्या हो ।
b. A र R दुवै सही हुन् तर R, A को सही व्याख्या होइन ।
c. A सही हो तर R गलत हो ।
d. A गलत हो R सही हो ।

(a) (b) (c) (d)

43. Complete the following series?

0, 3, 8, 15, 24 ?

- a. 33
b. 35
c. 37
d. 48

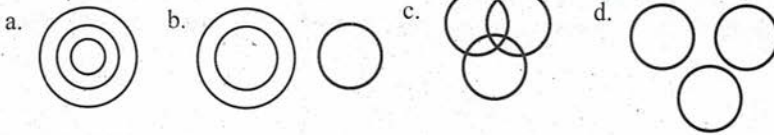
(a) (b) (c) (d)

44. समुहमा नमिलने पत्ता लगाउनुहोस् ।

- a. 4,256,4
b. 5,3125,5
c. 3,27,3
d. 2,16,2

(a) (b) (c) (d)

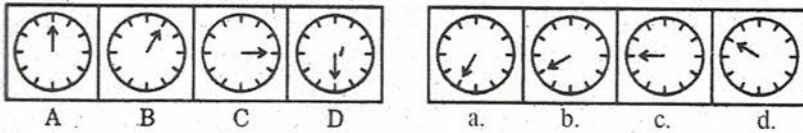
45. दिइएको मध्ये कुन विकल्पले Female women र Nurse को उपयुक्त सम्बन्धलाई जनाउँछ
The venn-diagram representation of female, women, nurse is?



(a) (b) (c) (d)


46. श्रेणीक्रम पूरा गर्नुहोस् ।

Complete the following series



(a) (b) (c) (d)

47. एउटा चित्रलाई एकपटक मात्र प्रयोग गरी तलका चित्रहरूको तीनवटा समूह बनाउनुहोस्
Group the given figure into three classes using each figure only once.



(a) 1,3,9 ; 2,5,8 ; 4,6,7

(b) 1,5,8 ; 4,6,7 ; 2,3,9

(c) 2,5,9 ; 1,3,8 ; 2,6,7

(d) 1,8,9 ; 4,6,7 ; 2,3,5

(a) (b) (c) (d)

48. तल दिइएका कुन चाहीं विकल्पले पूर्ण वर्ग बनाउँछ ।

Form a complete square.



(A)



(B)



(C)



(D)



(E)

(a) ABD

(b) ABE

(c) BCD

(d) BDE

(a) (b) (c) (d)

49. दिइएको शब्दको पानीमा देखिने आकृति छनौट गर्नुहोस् ।

Find the water image of the given text.: R A J 5 8 9 D 8

a. BV1288D8

b. 8V1288D8

(a) (b) (c) (d)

c. BV1288D8

d. 8V1288D8

50. दिइएको चित्रमा कतिवटा वर्ग रहेका छन् ।

Count the number of squares in the following figures.



a. 18

b. 14

c. 10

d. 9

(a) (b) (c) (d)

ANSWERS

1. d	2. a	3. c	4. c	5. a	6. d	7. c	8. a	9. b	10. b
11. b	12. d	13. c	14. b	15. b	16. c	17. b	18. c	19. b	20. b
21. b	22. d	23. d	24. d	25. a	26. c	27. c	28. d	29. b	30. d
31. b	32. a	33. a	34. a	35. b	36. d	37. c	38. c	39. a	40. d
41. b	42. d	43. b	44. d	45. a	46. d	47. b	48. b	49. a	50. b

IQ HINTS

31.	b.	$\frac{8 \times 24}{12} = 16$																																								
32.	a.	$30,000 \times \frac{105}{100} \times \frac{105}{100} = 33075$																																								
33.	a.	$16 + 24 \div 8 - 6 \div 2 \times 3 = 10$																																								
34.	a.	$30 \times \frac{5}{18} = \frac{25}{3}$ or, $\frac{100}{25} = 12$ second																																								
35.	b.	<table border="1" style="width: 100%; text-align: center;"> <tbody> <tr> <td>D</td><td>I</td><td>C</td><td>T</td><td>O</td><td>I</td><td>N</td><td>A</td><td>R</td><td>Y</td> </tr> <tr> <td>1</td><td>2</td><td>3</td><td>4</td><td>5</td><td>2</td><td>6</td><td>7</td><td>8</td><td>9</td> </tr> <tr> <td>O</td><td>R</td><td>D</td><td>I</td><td>N</td><td>A</td><td>R</td><td>Y</td><td></td><td></td> </tr> <tr> <td>5</td><td>8</td><td>1</td><td>2</td><td>6</td><td>7</td><td>8</td><td>9</td><td></td><td></td> </tr> </tbody> </table>	D	I	C	T	O	I	N	A	R	Y	1	2	3	4	5	2	6	7	8	9	O	R	D	I	N	A	R	Y			5	8	1	2	6	7	8	9		
D	I	C	T	O	I	N	A	R	Y																																	
1	2	3	4	5	2	6	7	8	9																																	
O	R	D	I	N	A	R	Y																																			
5	8	1	2	6	7	8	9																																			

36.	d.	<p style="text-align: center;">= उत्तर पूर्व</p>
37.	c.	<p style="text-align: center;">= 28 + 1 + 15 + 8 + 6 = 58</p>
38.	c.	Add and square in column.
39.	a.	$80 - 3 \times 3 = 71$
40.	d.	$G \xrightarrow{+3} J \xrightarrow{+4} N \xrightarrow{+5} S \xrightarrow{+6} Y \xrightarrow{+7} F$ $H \xrightarrow{+4} L \xrightarrow{+5} Q \xrightarrow{+6} W \xrightarrow{+7} D \xrightarrow{+8} L$
43.	b.	$1^2 - 1 = 0$ $2^2 - 1 = 3$ $3^2 - 1 = 8$ $4^2 - 1 = 16$ $6^2 - 1 = 35$
44.	d.	$4^4 = 256$ $5^5 = 3125$ $3^3 = 27$ $2^2 = 4$
46.	d.	0, 1, 2 वटा hour scale छोड्दै गएको छ।
50.	d.	$3^2 + 2^2 + 1^2 = 14$