

SET - 5

1. तलका कथन मध्ये गलत कथन छनौट गर्नुहोस् ।

a. Home of Man – Asia	b. New world – Antarctica	(a) (b) (c) (d)
c. Zoo of world – Africa	d. Island Continent – Australia	
2. विभिन्न शैक्षिक संस्थाहरु र तिनको स्थापनाको वर्षको जोडामा कुन गलत हो ?

a. वि.पि. कोईराला स्वास्थ्य विज्ञान प्रतिष्ठान - २०५५	(a) (b) (c) (d)
b. मध्य पश्चिमाञ्चल विश्वविद्यालय - २०६८	
c. त्रिभुवन विश्वविद्यालय - २०१४	
d. पाटन स्वास्थ्य विज्ञान प्रतिष्ठान - २०६४	
3. हरेक वर्ष माघे संक्रान्तीमा गोरु जुधाउने मेला कुन जिल्लामा अयोजना गरिन्छ ?

a. रसुवा	b. दोलखा	(a) (b) (c) (d)
c. दैलेख	d. नुवाकोट	
4. मुद्रा संग्रहालयको स्थापना मा भएको हो भने सो संग्रहालय सर्वसाधारणका लागि अवलोकन गर्न मा खुला गरिएको हो ।

a. वि.सं. २०१९, वि.सं. २०५६	b. वि.सं. २०१९, वि.सं. २०५८	(a) (b) (c) (d)
c. वि.सं. २०२०, वि.सं. २०६०	d. वि.सं. २०३२, वि.सं. २०५६	
5. तलको जातिहरूमध्ये कुन जाती अति सिमान्तकृत जातीको समूहमा पर्दैन ?

a. गनगाँई	b. सतार	(a) (b) (c) (d)
c. ल्होमी	d. धामी	
6. यदी RIPPLE लाई कोड भाषा 613382 LIFE लाई 8192 लेखिन्छ भने PILLER लाई के लेखिन्छ रु

a. 318826	b. 318283	(a) (b) (c) (d)
c. 618826	d. 338816	
7. अरुण आफ्नो घरबाट 15km. उत्तरतर्फ गई पश्चिमतर्फ 10km अगाडि बढ्यो, अनि त्यहाँबाट 5km दक्षिणमा गयो अन्त्यमा त्यहाँबाट पनि 10km पुर्वतर्फ गयो । अहिले अरुण आफ्नो घरबाट कुन दिशातर्फ होला?

a. पूर्व	b. पश्चिम	(a) (b) (c) (d)
c. उत्तर	d. दक्षिण	
8. कुनै लाइनमा 'A' अगाडिबाट २१ औं स्थानमा छ र B पछाडिबाट २० औं 'A' अगाडि छ । यदी A र B को स्थान परिवर्तन गर्दा A अगाडिबाट २८ औं स्थानमा हुन्छ भने त्यस लाईनमा A र B बाहेक जम्मा कति जना व्यक्तिहरू छन् ?

a. 44	b. 45	(a) (b) (c) (d)
c. 46	d. 47	
9. प्रश्नवाचक चिन्हमा कुन अंक होला ?

5	6	7
3	4	5
9	10	11
345	460	?

- a. 535
c. 755

- b. 577
d. 775

(a) (b) (c) (d)

10. एउटा पसलेले टोकरीलाई अण्डाले यसरी भर्छ की प्रत्येक दिन टोकरी हाल्ने अण्डा र टोकरीमा विद्यमान अण्डाको संख्या बराबर हुन्छ । यसरी भर्दा उक्त टोकरी २४ दिनमा भनिन्छ । कति दिन पछाडि उक्त टोकरी चार भागको एक भाग भरिएको होला ?

- a. २१
c. ७

- b. २२
d. ४

(a) (b) (c) (d)

11. इन्द्रेणीमा देखिने रंगको क्रम कुन सही छ ?

- a. रातो, पहेंलो, सुन्तला, निलो
c. रातो, सुन्तला, निलो, पहेंलो

- b. पहेंलो, सुन्तला, निलो, रातो
d. रातो, सुन्तला, पहेंलो, निलो

(a) (b) (c) (d)

12. तलका कथनबाट सही विकल्प छनौट गर्नुहोस् ।

- A. सर्पको शरीरमा जम्मा ३०० हड्डी हुन्छन् ।
B. बच्चा जन्माउने सर्प करेत सर्प हो ।

- a. A सही B गलत
c. A, B दुवै गलत

- b. A, B दुवै सही
d. A गलत, B सही

(a) (b) (c) (d)

13. तलको मध्ये कून जोडा गलत छ ?

- a. पारिस्थीतिक प्रणाली - A.G. Tansley
c. अम्ल वर्षा - शेरउड रोउल्याण्ड

- b. हरितगृह प्रभाव - वेरिन जिन फेरियर
d. जैविक विविधता - इ.ओ. विल्सन

(a) (b) (c) (d)

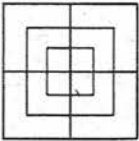
14. विभिन्न रोग र ति रोगका खोपको जोडाबारे गलत जोडा छनोट गर्नुहोस् ।

- a. क्षयरोग (T.B.) → वि.सि.जी. (B.C.G.)
c. भ्यागुते रोग → टि.टि. (T.T.)

- b. लहरेखोकी → डि.पी.टी (D.P.T.)
d. दादुरा → दादुरा (Measles)

(a) (b) (c) (d)

15. तल दिइएको चित्रमा जम्मा वर्गमा संख्या कति होला ? Count the number of squares from the following figure.



- a. 8
c. 15

- b. 12
d. 18

(a) (b) (c) (d)

16. प्रश्नवाचक चिन्ह कुन विकल्प ठीक होला ? Complete the pattern.



(X)



(a)



(b)



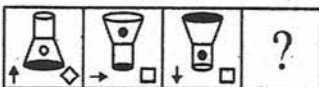
(c)



(d)

(a) (b) (c) (d)

17. तलको श्रेणी पूरा गर्नुहोस् । Find the missing figure.

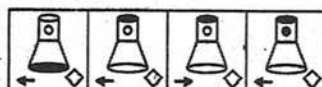


A

B

C

D



a.


b.

c.

d.

(a) (b) (c) (d)

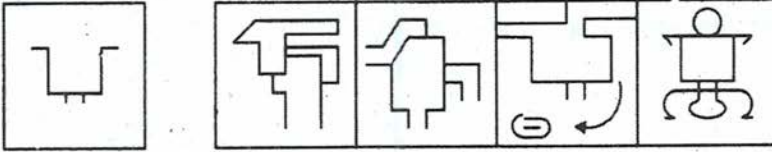
18. तल दिइएको चित्रहरूको समूहबाट उस्तै उस्तै प्रकृतिको चित्रलाई समूहकृत गरी सही विकल्प छनोट गर्नुहोस् । Group the given figures into three classes using each figures only once.



- (a) 1,5,7 ; 2,4,6 ; 3,9,8
 (b) 1,5,7 ; 2,4,8 ; 3,6,9
 (c) 1,4,7 ; 2,5,8 ; 3,6,9
 (d) 1,7,9 ; 3,5,8 ; 2,4,6

(a) (b) (c) (d)

19. दिइएको चित्र तलका कुन विकल्पले समेटेको छ ? Trace out the alternative figure which contents figure x as its part.



(a) (b) (c) (d)

20. कुनै घडीमा 9:30 बजेको ऐनाले देखाउछ भने, वास्तविक कति बजेको होला ? Clocks shows 9:30 on mirror actual time is?

- a. 2:30
 b. 3:30
 c. 4:30
 d. 6:30

(a) (b) (c) (d)

21. तलका कथन अध्ययन गरी सही विकल्प छनोट गर्नुहोस् ।

- A. पहिलो विश्व जलवायु सम्मेलन सन् १९७९ मा भएको थियो ।
 B. तेस्रो विश्व जलवायु सम्मेलन सन् २००९ मा भएको थियो ।
 C. विश्व जलवायु सम्मेलनको आयोजना संयुक्त राष्ट्र संघले गर्दछ ।

- a. A, B, C सबै सही
 b. A, B गलत, C सही
 c. A, B सही, C गलत
 d. A, B, C गलत

(a) (b) (c) (d)

22. लिच्छवी कालीन शब्द र तिनको अर्थबारे विचार गरी सही विकल्प छनोट गर्नुहोस् ।

- i. ग्राम - सानो गाँउ
 ii. तल - ठूलो गाँउ
 iii. द्रंग - सहरी वस्ती

- a. i., ii., iii., सही
 b. i., ii., गलत iii., सही
 c. i., सही, ii., iii., गलत
 d. ii., iii., सही i. गलत

(a) (b) (c) (d)

23. सवैभन्दा लामो समय नाचेर विश्व किर्तिमान राख्ने व्यक्ति को हुन् ?

- a. थानेश्वर गुरागाई
 b. आशमा विश्वकर्मा
 c. सरोज कार्की
 d. बन्दना नेपाल

(a) (b) (c) (d)

24. "Global Gender Gap Report" नामक प्रतिवेदन कुन संस्थाले सार्वजनिक गर्दछ ?

- a. UNDP
 b. Women Empowerment circle
 c. World economic forum
 d. UNWOMEN

(a) (b) (c) (d)

25. विश्वकप फुटबल २०१८ का विभिन्न अवार्डमध्ये सही जोडा छनौट गर्नुहोस् ।
 a. सर्वाधिक गोलकर्ता - लियोनेल मेस्सी b. सर्वोत्कृष्ट युवा खेलाडी - किलियन एम्बाप्पे
 c. सर्वोत्कृष्ट गोलकिपर - थिवाउट कोर्टोइस d. सर्वोत्कृष्ट खेलाडी - क्रिष्टीयानो रोनाल्डो (a) (b) (c) (d)
26. नेपाल र चिन बिच भएको सन्धि सम्झौताको पहिलो देखि अन्तिमको क्रम कुन सही छ ?
 a. केरुङ सन्धि, वेत्रावती, थापाथली सन्धि, शान्ति तथा मैत्री सन्धि
 b. वेत्रावती, केरुङ सन्धि, शान्ति तथा मैत्री सन्धि, थापाथली सन्धि
 c. केरुङ सन्धि, वेत्रावती, शान्ति तथा मैत्री सन्धि, थापाथली सन्धि
 d. थापाथली सन्धि, केरुङ सन्धि, वेत्रावती, शान्ति तथा मैत्री सन्धि (a) (b) (c) (d)
27. संयुक्त राष्ट्रसंघको वडापत्रमा जम्मा कति धारा रहेका छन् ?
 a. १९ b. १११
 c. ११० d. ११९ (a) (b) (c) (d)
28. "एक गाउँ एक उत्पादन" अवधारणको सुरुवात कुन देशबाट भएको हो ?
 a. उरुग्वे b. इण्डोनेशिया
 c. मेक्सिको d. जापान (a) (b) (c) (d)
29. विभिन्न जिल्ला र सो जिल्लास्थित रहेका विमानस्थलको जोडाबारे विचार गरी सही विकल्प छनौट गर्नुहोस् ।
 i. सुकेटार - डोल्पा ii. मनमाया - खोटाङ
 iii. सल्ले - ताप्लेजुङ्ग iv. मसिनेचौर - डोल्पा
 a. i., ii. सही iii., iv. गलत b. ii., iv., सही i., iii., गलत (a) (b) (c) (d)
 c. i., iii. सही ii., iv., गलत d. iii., iv., सही i., ii., गलत
30. तलका कथन विचार गरी सही विकल्प छनौट गर्नुहोस् ।
 i. विश्वमा योजनाबद्ध विकासको सुरुवात रुसबाट भएको हो ।
 ii. विश्वको पहिलो योजनालाई पापातिलेका भनिन्छ ।
 a. i., ii. सही b. i. सही ii. गलत (a) (b) (c) (d)
 c. i. गलत ii. सही d. i., ii. गलत
31. खाली ठाँउमा कुन विकल्प सही हुन्छ छनौट गर्नुहोस् ।
 ac - cab - baca - aba - acac
 a. aacb b. acbc
 c. babb d. bcbb (a) (b) (c) (d)
32. सही विकल्प छनौट गर्नुहोस् ।
 Pineapple: fruit:: Cauliflower:?
 a. Vegitable b. Flower
 c. Fruit d. Food (a) (b) (c) (d)
33. तलको कथनहरू अध्ययन गरी सही विकल्प छनौट गर्नुहोस् ।
 A: पृथ्वीको सूर्यको परिक्रमा ३६५ दिनमा पुरा गर्दछ ।
 R: पृथ्वीको वार्षिक गतिले गर्दा ऋतु परिवर्तन हुन्छ ।
 a. A र R दुवै सही छन् । R, A को सही व्याख्या हो । (a) (b) (c) (d)
 b. A र R दुवै सही छन् । R, A को व्याख्या हो ।

- c. A सही छ तर R गतल छ,
d. A गलत छ तर R सही छ।

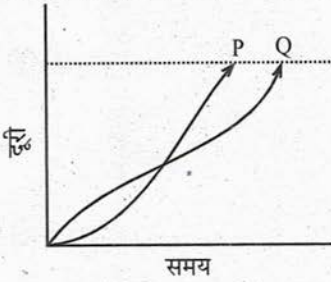
34. श्रेणीक्रम पुरा गर्नुहोस्।

७२	२४	६
९६	१६	१२
१०८	?	१८

- a. 12
b. 15
c. 16
d. 18

(a) (b) (c) (d)

35. यहाँ एकै साथ दौडिरहेका P र Q दुई खेलाडीहरूको समय दुरी ग्राफ दिइएको छ। दिइएको लिखित मध्ये कुन चाँही सही निष्कर्ष निकाल्न सकिन्छ।



- a. दौड अवधिभरी P, Q भन्दा छिटो दौडेको थिया।
b. P ले दौड जित्यो
c. दौड अवधिभरी Q, P भन्दा छिटो दौडेको समय थियो
d. Q ले दौड जित्यो

(a) (b) (c) (d)

36. तल दिइएको जोडाहरू बिच कुन जोडा सही छ ?

- i. पृथ्वीको सबैभन्दा लामो दिन - June 21
ii. पृथ्वीको सबैभन्दा छोटो दिन - Dec. 22
iii. पृथ्वीमा दिन र रात बराबर हुने दिन - March 21

- a. i., ii. सही iii. गलत
b. i. सही ii., iii. गलत
c. i., ii., iii. सही
d. i., ii., iii. गलत

(a) (b) (c) (d)

37. तलकामध्ये भित्रि मधेशमा नपर्ने जिल्ला कुन हो ?

- a. उदयपूर
b. सिन्धूली
c. नवलपरासी (पूर्व)
d. नवलपरासी (पश्चिम)

(a) (b) (c) (d)

38. पिलुवा खोला जलविद्युत आयोजना कुन जिल्लामा अवस्थित छ ?

- a. इलाम
b. संखुवाशभा
c. प्यूठान
d. पाँचथर

(a) (b) (c) (d)

39. भूटानबारे गलत कथन छनौट गर्नुहोस्।

- a. भूटान एक राजतन्त्रात्मक मुलुक हो।
b. भूटान द्विसदनात्मक संसदको व्यवस्था छ।
c. भूटान एक भुपरिवेष्टित राष्ट्र हो।
d. सार्कको सबैभन्दा सानो राष्ट्र हो।

(a) (b) (c) (d)

40. विभिन्न घटना र ति घटनासँग सम्बन्धित समयको जोडा मिलाउनुहोस् ।
- | | |
|-----------------------------|---------------------|
| a. म्याग्नाकार्टा | i. 1760 - 1840 A.D. |
| b. औद्योगिक क्रान्ती | ii. 1789 A.D. |
| c. फ्रान्सेली राज्यक्रान्ती | iii. 1215 A.D. |
| d. रुसी क्रान्ती | iv. 1917 A.D. |
- a. a-iii, b-i, c-ii, d-iv b. a-i, b-ii, c-iii, d-iv (a) (b) (c) (d)
- c. a-iii, b-i, c-iv, d-ii d. a-iii, b-iv, c-i, d-ii
41. सुमनले कुनै काम १८ दिनमा सुरेशले १२ दिनमा गर्न सक्दछ । तिनहरू मिली ७ दिनसँगै काम गरेपछि सुमनले काम छोड्यो भने अब बाँकी काम सुरेशले कति दिनमा गर्न सक्छ ?
- | | |
|----------|----------|
| a. २ दिन | b. ३ दिन |
| c. ४ दिन | d. ५ दिन |
- (a) (b) (c) (d)
42. अमनले ५ प्रतिशत नाफा खाएर एउटा घडी रु. २५२ मा बेचेछ भने सो घडीको क्रयमूल्य पत्ता लगाउनुहोस् ।
- | | |
|--------|--------|
| a. २३८ | b. २४० |
| c. २४२ | d. २४४ |
- (a) (b) (c) (d)
43. तल दिइएको भिन्न मध्ये सानो भिन्न कुन हो ?
- | | |
|-------------------|-------------------|
| a. $\frac{2}{5}$ | b. $\frac{3}{10}$ |
| c. $\frac{7}{25}$ | d. $\frac{3}{50}$ |
- (a) (b) (c) (d)
44. $K, 2K+3, 3K-5$ र $5K+1$ को औसत 63 भए K को मान पत्ता लगाउनुहोस् ।
- | | |
|-------|-------|
| a. 22 | b. 23 |
| c. 24 | d. 25 |
- (a) (b) (c) (d)
45. स्थानिय सरकार सञ्चालन ऐन २०७४ अनुसार गाउँपालिकामा न्यूनतम देखि अधिकतम सम्म वडा हुन सक्ने व्यवस्था रहेको छ ।
- | | |
|-----------|-----------|
| a. ५ - १५ | b. ५ - २१ |
| c. ५, १२ | d. ५ - ३५ |
- (a) (b) (c) (d)
46. तलकामध्ये गलत कथन छनोट गर्नुहोस् ।
- | | |
|--|-----------------|
| a. किलर माउण्टेन भन्नाले मकालु हिमाललाई भनिन्छ । | (a) (b) (c) (d) |
| b. नेपालमा जम्मा २८ हिम शृंखला छन् । | |
| c. पिसाङ हिमाल दामोदर हिमशृंखलामा पर्दछ । | |
| d. पाथिभरा हिमाल भनेर गौरी शंकर हिमाललाई चिनिन्छ । | |
47. स्थापनाका आधारमा दिइएका आरक्षहरूको क्रम मिलाउनुहोस् ।
१. पर्सा २. कोशिटप्पू ३. ढोरपाटन ४. शुक्लाफाँटा
- | | |
|------------|------------|
| a. १,२,३,४ | b. २,१,४,३ |
| c. ४,२,१,३ | d. ४,१,२,३ |
- (a) (b) (c) (d)
48. तल दिइएको कथनहरूमध्ये सही कथन छनोट गर्नुहोस् ।
- | | |
|--|---|
| a. गोवी मरुभूमी अफ्रिका महादेशमा पर्दछ । | b. अमेजन नदी दक्षिण अमेरिकाको प्रसिद्ध नदी हो । |
| c. नाईल नदी विश्वकै ठूलो नदी हो । | d. काजकिस्तान पूर्वी यूरोपको मूलुक हो । |
- (a) (b) (c) (d)

49. विश्वमा सर्वाधिक फोटो खिचिएको र चित्र लेखन गरिएको पहाड कुन हो ?

- a. माउण्ट फूजी
b. सगरमाथा
c. एडम्स पिक
d. मौनालोवा

(a) (b) (c) (d)

50. कान्छो जिल्लाको रूपमा रहेको पूर्वी रुकुमको सदरमुकाम कहाँ रहेको छ ?

- a. मुसिकोट
b. रुकुमकोट
c. खलंगा
d. पूथा उत्तरगया

(a) (b) (c) (d)

ANSWERS

1. b	2. c	3. d	4. a	5. a	6. a	7. c	8. b	9. b	10. b
11. d	12. b	13. c	14. c	15. c	16. b	17. b	18. b	19. d	20. a
21. b	22. a	23. d	24. c	25. b	26. a	27. b	28. d	29. b	30. a
31. c	32. a	33. a	34. a	35. b	36. c	37. d	38. b	39. d	40. a
41. a	42. b	43. d	44. b	45. b	46. a	47. c	48. b	49. a	50. b

IQ HINTS:

6.	a.	R = 6, I = 1, P = 3, L = 8, E = 2, f = 9 PILLER = 318826								
7.	c.									
8.	b.	 = 20 + 6 + 19 = 45								
9.	b.	<table border="1"> <tr> <td>5</td> <td>5 × 9 = 45</td> </tr> <tr> <td>3</td> <td>→ 345</td> </tr> <tr> <td>9</td> <td></td> </tr> <tr> <td>345</td> <td></td> </tr> </table>	5	5 × 9 = 45	3	→ 345	9		345	
5	5 × 9 = 45									
3	→ 345									
9										
345										
10.	b.	24 दिनमा = 1 23 दिनमा = $\frac{1}{2}$ 22 दिनमा = $\frac{1}{3}$ 21 दिनमा = $\frac{1}{4}$								

17.	b.	Arrow = Clockwise direction dark shaded area and dark dot = White.
18.	b.	$1^2 + 5^2 + 4^2 + 3^2 = 51 \times 10 = 510$
19.	d.	$2 \times 1 + 1 = 3$ $14 \times 7 + 7 = 105$
20.	a.	$12 - 9: 30 = 2 : 30$
31.	a.	ACAC / ABAB / ACAC / ABAB
34.	a.	$\frac{24 \times 6}{2} = 72$ $\frac{16 \times 12}{2} = 96$
35.	b.	दूरी दुबैले बराबर पार गरेका छन् तर ए ले धेरै समयमा दूरी तय गरेको छ।
41.	a.	दुबै मिली = $\frac{1}{18} + \frac{1}{12} = \frac{5}{36}$ 7 दिन दुबै मिली = $\frac{5 \times 7}{36}$ बाँकी काम = $1 - \frac{35}{36} = \frac{1}{36}$ सुरेशले = $\frac{36}{12} = 3$.
42.	b.	$\frac{252 \times 100}{105} = 240$
43.	d.	$\frac{2}{4} \times 10 = 4, \frac{3}{10} \times 10 = 3,$ $\frac{7}{25} \times 10 = 2.8, \frac{3}{50} \times 10 = 0.6$
44.	b.	$\frac{K + 2K + 3 + 3K - 5 + 5K + 1}{4} = 63$ $11K = 252 + 1, K = 23$