

४५. कुनै पार्टीमा प्रत्येकले प्रत्येकसँग हात मिलाउँदा त्यहाँ जम्मा 66 पटक हात मिलाउने काम भयो भने त्यस पार्टीमा कुल कति जना उपस्थित थिए ?
 ४६. तल दिइएको क्रममा कुन संख्या आउँछ ?
 3,4,7,8,11,12,....

५12

५15

[क्रमशः 1,3/1,3 जोड्दै पछिल्ला पदहरू निर्धारण गरिएको]

प्रथम पत्र

विषयः सामान्य ज्ञान र सामान्य बौद्धिक परीक्षण

2062

१. सामान्य ज्ञान

वस्तुगत बहुउत्तर

१. नेपालको प्रमुख खाद्यान्नवाली कुन हो ? (३५×२ = ७० अंक)
 २. वि.सं. २०६८ को राष्ट्रिय जनगणना अनुसार नेपालमा बोलिने भाषाको संख्या कति रहेको छ ?
 ३. नेपालको अन्तिम संविधान, २०६३ अनुसार राज्यको अग्रगामी पुन संरचना बारे व्यवस्था भएको धारा कुन हो ?
 ४. तलको मध्ये संयुक्त राष्ट्र संघको विशिष्टीकृत एजेन्सी कुन होइन ?
 ५. तलका मध्ये कुन ग्रामी पुरस्कारसँग सम्बन्धित छ ?
 ६. स्थानीय निकाय भन्नाले के बुझिन्छ ?
 ७. कुन भनाइ ठीक छ ?
 (क) कोतपर्व वि.सं. १९०३ मा भएको थियो ।
 (ख) अलौपर्व वि.सं. १९०५ मा भएको थियो ।
 (ग) लाइब्रेरीपर्व वि.सं. १९८७ मा भएको थियो ।
 ८. निम्न मध्ये कुन ठीक हो/हुन् ?
 (क) अक्षांस रेखाले मद्दतबाट कुनै ठाउँको हावापानीको अवस्था थाहा पाउन सकिन्छ ।
 (ख) मौरिससको राजधानी मोगादिसु हो ।
 (ग) एन्जेल भरना दक्षिण अमेरिकामा रहेको छ ।
 (घ) युराल पर्वत श्रृंखला अफ्रिकामा पर्दछ ?
 ९. नियुक्ति हुनुपर्व सुनुवाई गर्नुपर्ने पद निम्न मध्ये कुन हो ?
 १०. वि.सं. २०७० को जगदम्बा श्री पुरस्कार कसलाई दिइएको थियो ?
 ११. समूह I र समूह II बीच जोडा मिलाउनुहोस् र कोडबाट सही उत्तर छान्नुहोस् ।
 समूह I समूह II
 a. जाभा ट्रेन्च 1. एटलान्टिक महासागर
 b. मारियाना ट्रेन्च 2. हिन्द महासागर
 c. वेन्टले सब्ग्लासियल ट्रेन्च 3. प्रशान्त महासागर
 d. पुटोरीको ट्रेन्च 4. आर्काटिक महासागर
 १२. नेपालमा राष्ट्रव्यापी जनमत संग्रह सर्वप्रथम कहिले भएके थियो ?
 १३. पारसनाथ भनेर कुन देवतालाई चिनिन्छ ?
 १४. "एक गाउँ एक उत्पादन" कार्यक्रमको शुरुवात कुन देशबाट भएको हो ?
 १५. कुन समूहको रगतलाई "Universal acceptor" भनिन्छ ?
 १६. राष्ट्रिय जनगणना २०६९ अनुसार नेपालमा कति प्रतिशत जनसंख्या शहरमा बसोबास गर्दछन् ?

(३५×२ = ७० अंक)

५ धान

५ १२३

५ धारा -१३८

५ एशियाली विकास बैंक (दिइएका मध्ये)

५ संगीत

५ जिल्ला विकास समिति, नगरपालिका र गाउँ विकास समिति

५ क र ग ठीक हुन् ।

५ क र ग ठीक हुन्

५ सूचना आयुक्त (दिइएका मध्ये)

५ शिव रेग्मी

५ a2,b3,c4,d1

५ वि.सं. २०३७ वैशाख २० गते

५ पशुपतिनाथ

५ जापान

५ एबी पोजिटिभ (AB + ve)

५ १७.०७ प्रतिशत

१७. समूह I र समूह II बीच जोडा मिलाउनुहोस् र कोडबाट सही उत्तर छान्नुहोस् ।

समूह I

- विषमताको महादेश
- नाइल नदी
- हिन्दकुश पर्वतमाला
- तक्ला माकन मरुभूमि

समूह II

- एटलान्टिक महासागर
- पाक-अफगान क्षेत्र
- चीन
- एसिया

☞ a4, b1, c2, d3

१८. विश्वको सबभन्दा ठूलो नूनिलो पानीको ताल कुन हो ?
१९. सगरमाथा राष्ट्रिय निकुञ्ज विश्व सम्पदा सूचीमा कहिले सूचीकृत भएको हो ?
२०. नेपालमा कति वटा जिल्लाले चिन र भारतलाई छोएका छैनन् ?
२१. नेपालमा "हलो क्रान्ति" को शुरुवात कुन जिल्लाबाट भएको थियो ?
२२. तल दिइएको मध्ये कुन सही हो छनौट गर्नुहोस् ।

- (क) फ्रान्सेली क्रान्ति - 1779 AD
(ख) अमेरिकन स्वतन्त्रता - 1918 AD
(ग) रुसी क्रान्ति - 1917AD
(घ) माथिका सबै (All of the above)

☞ उत्तर (ग)

२३. नेपाल-अग्रेज युद्धको क्रममा "सूर्यगढ" मा ले नेतृत्व लिएका थिए ।

☞ जसपाउ थापा

२४. समूह I र समूह II बीच जोडा मिलाउनुहोस् र कोडबाट सही उत्तर छान्नुहोस् ।

समूह I

- प्रथम किराती राजा
- प्रथम गोपालवंशी राजा
- प्रथम लिच्छवीवंशी राजा
- प्रथम मल्लवंशी राजा

समूह II

- जयदेव
- यलम्बर
- अरिदेव
- भुक्तमान

☞ a2, b4, c3, d1

☞ सन् ५७०

२५. पैगम्बर मोहम्मदको जन्म कहिले भएको थियो ?

२६. सुशासनको समावेश नहुने निम्न मध्य कुन हो ?

- (क) कानूनको शासन (ख) जनसहभागिता
(ग) उत्तरदायित्व (घ) निरयकुशता

☞ (घ)

२७. "बोधचित्त" कुन जिल्लामा उत्पादन हुन्छ ?

☞ काभ्रेपलाञ्चोक

२८. चर्मेनिया जलविद्युत आयोजनाको कार्यान्वयन कुन जिल्लामा भैरहेको छ ?

☞ दार्चुला

२९. नेपालको कुन जिल्लामा "ह्याम्मो" समुदायका मानिस बसोबास गर्दछन् ?

☞ सिन्धुपाल्चोक

३०. नेपालको सबैभन्दा लामो पक्की पुल जिल्लामा निर्माण भएको छ ।

☞ बर्दिया

३१. नेपालले हालै खरीद गरेको जहाज एयरबस कुन देशमा बनेको हो ?

☞ फ्रान्स

३२. "निजामती सेवा दिवस" कहिले मनाइन्छ ?

☞ हरेक वर्षको भदौ २२ गते

३३. संयुक्त राष्ट्र संघीय अन्तर्राष्ट्रिय श्रम सङ्गठनको प्रधान कार्यालय कहाँ रहेको छ ?

☞ जेनेभा, स्वीटजरल्याण्ड

३४. निम्न मध्ये कुन मन्त्रालयको विभाग छैन ?

☞ शान्ति तथा पुनः निर्माण मन्त्रालय (दिइएका मध्ये)

२. सामान्य बौद्धिक परीक्षण

(१५ × २ = ३० अङ्क)

३५. गाडी : चक्का भएजस्तै लेखक :

☞ कलम

३६. एउटा खास Code अनुसार BOY लाई CPZ लेखिन्छ भने त्यही Code अनुसार GIRL को के हुन्छ ?

☞ HJSM

३७. यस प्रश्नमा दुईवटा भनाईहरू र दुईवटा निचोडहरू दिइएका छन् । ती दुई भनाईहरू साधारणतः अर्कै जस्तो लागे पनि सत्य नै मान्नुपर्छ । ति निचोडहरूको अध्ययन गर्नुहोस् र कुन चाँहि निचोडले दिएको भनाई तर्कपूर्ण लाग्छ उपयुक्त विकल्प छान्नुहोस् ।

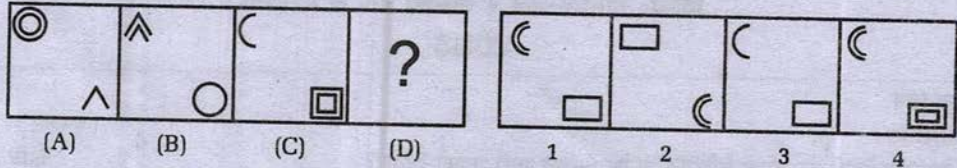
भनाईहरू सबै आँपहरू सुनौला देखिन्छन् । सुनौलो देखिने सामानहरू सस्ता हुँदैनन् ।

(१) आँपहरू सस्ता हुन्छन् ।


(२) सुनौला रंगका आँप सस्ता हुँदैनन् ।

☞ १ र २ दुवै तर्कपूर्ण छैनन् ।

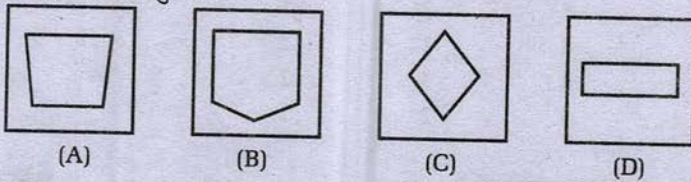
३८. समस्या चित्रहरूको लहरमा प्रश्न चिन्ह भएको कोष्ठकमा समाधान चित्रहरूको लहरबाट कुन चाँहि चित्र उपयुक्त हुन्छ ?



३९. दिइएको चित्रमा कति वटा सिधा रेखाहरू छन् ?



४०. अन्यसँग नमिल्दो कुन छ ?



४१. निम्न मध्ये नमिल्दो कुन हो ?

(क) radar (ख) rocket (ग) kite (घ) bird

४२. एकजना मान्छे आफ्नो घरबाट १०० मिटर पश्चिम दिशामा हिंड्यो । त्यसपछि दक्षिण फर्केर २०० मिटर हिंड्यो । फेरी उ बाँया फर्केर १४० मिटर हिंड्यो र अन्त्यमा उ पुनः बाँया २३० मिटर हिंड्यो भने अब उ आफ्नो घरबाट कति मोटर टाढा कुन दिशामा छ ?

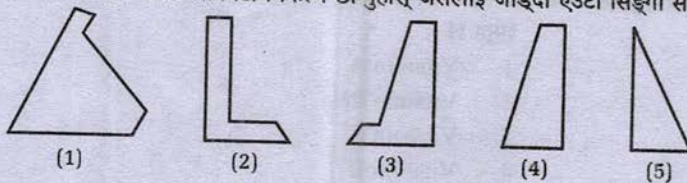
४३. यस विकल्पका आधारमा समरूप भएको अड्क पत्ता लगाउनुहोस् । 7 : 49 :: 5 : ?

४४. यदि DRIVER = 12, PSYCHOLOGY = 20 and UNIVERSE = 16, हो भने HOME = ?

४५. कुन अंकले प्रश्नमा रहेको खाली स्थान (?) लाई पूरा गर्दछ ।

4	7	28
9	4	36
8	3	?

४६. निम्नलिखित मध्येबाट तीनवटा विकल्प छान्नुहोस् जसलाई जोड्दा एउटा सिङ्गो समकोण बन्दछ ।



४७. २६० को २५ प्रतिशत कति हुन्छ ?

४८. निम्न क्रमलाई पूरा गर्नुहोस् । २, ५, ९, ?, २०, २०

प्रथम पत्र
विषय: सामान्य ज्ञान र सामान्य बौद्धिक परीक्षण
२०७३

१. सामान्य ज्ञान

वस्तुगत बहुउत्तर

(३५×२ = ७० अंक)

५ वि.स. २०१३

१. नेपालमा निजी वन जंगल राष्ट्रियकरण ऐन कहिले जारी भएको थियो ?

२. समूह I र समूह II बीच जोडा मिलाउनुहोस् र कोडबाट सही उत्तर छान्नुहोस् ।

समूह (Group I)

समूह (Group II)

a. विश्वेश्वर प्रसाद कोइराला

1. गंकी

b. पुष्कर शम्शेर राणा

2. गुनकेशरी

c. भवानी भिक्षु

3. दोषी चस्मा

d. धुँस्वा स्वामी

4. परिवन्द

कोड

	a	b	c	d
(क)	4	5	2	1
(ख)	3	4	1	2
(ग)	1	4	3	2
(घ)	3	4	2	1

३. नेपालमा पहिलो विकेन्द्रीकरण ऐन कहिले लागू भएको हो ?

४. समूह I र समूह II बीच जोडा मिलाउनुहोस् र कोडबाट सही उत्तर छान्नुहोस् ।

समूह I

समूह II

a. राउटे

1. उन्नत समूह

b. भाँगाड

2. द्रविड

c. थकाली

3. राजवंशी

d. देउनियाँ

4. भोट बर्मेली

(क) a-2, b-3, c-1, d-4

(ख) a-1, b-2, c-3, d-4

(ग) a-4, b-2, c-1, d-3

(घ) a-3, b-1, c-4, d-2

५. निम्न मध्ये कुन विषय वा मुद्दा गाउँ विकास समितिको न्यायाधिक अधिकारभित्र पर्दैन ?

६. पशुपतिनाथका प्रथम पुजारी को थिए ?

(क) स्वामी शेखानन्द

(ख) स्वामी महाराज

(ग) स्वामी कुलानन्द

(घ) माथिका कुनै पनि होइन

७. वंशाणुगत विविधतालाई केले पहिचान गराउँछ ?

८. समूह I र समूह II बीच जोडा मिलाउनुहोस् र कोडबाट सही उत्तर छान्नुहोस् ।

समूह I

समूह II

a. बेरीबेरी

1. Vitamin A

b. स्कर्भी

2. Vitamin B1

c. रिकेट्स

3. Vitamin C

d. रतन्धो

4. Vitamin D

कोड

(क) a-1, b-2, c-3, d-4

(ख) a-4, b-3, c-2, d-1

(ग) a-3, b-2, c-1, d-4

(घ) a-2, b-3, c-4, d-1

५ (घ)

५ वि.सं. २०१९

५ (ग)

५ गोबध

५ (क)

५ डी.एन.ए.

५ (घ)