
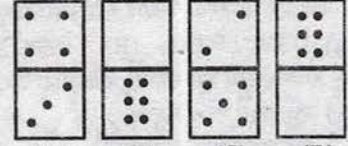


50. Problem figure मा भएको क्रमको नियममा जस्तै क्रममा रहने एउटा चित्र Answer figure बाट रेज्नुहोस् ।

Problem figure



Answer figure



(A) (B) (C) (D)

Answer Key

1. A	2. C	3. A	4. D	5. D	6. A	7. A	8. C	9. A	10. D
11. B	12. C	13. C	14. C	15. A	16. D	17. C	18. D	19. D	20. C
21. C	22. D	23. C	24. B	25. C	26. A	27. B	28. D	29. C	30. A
31. B	32. D	33. C	34. C	35. D	36. A	37. C	38. B	39. B	40. C
41. C	42. C	43. C	44. A	45. B	46. A	47. A	48. A	49. C	50. B

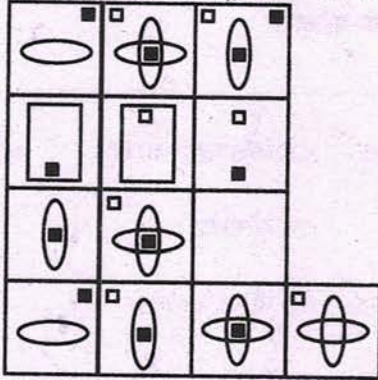
प्रथम पत्र

विषय: सामान्य ज्ञान र सामान्य बौद्धिक परीक्षण

२०७५/०२/१८

- अविरल बग्दछ इन्द्रावती उपन्यासका लेखक को हुन् ?
(A) रमेश विकल (B) इन्द्रबहादुर राई (C) देवकुमारी थापा (D) लिलबहादुर क्षेत्री
- दुधको शुद्धता परीक्षण गर्ने मेसिनलाई के भनिन्छ ?
(A) पोलिग्राफ (B) ल्याक्टोमिटर (C) एनिमोमिटर (D) टेलिमिटर
- सन् १९९२ मा भएको पृथ्वी सम्मेलनसँग नभएको एजेण्डा कुन हो ?
(A) ग्लोबल ५०० (B) एजेण्डा २१ (C) जैविक विविधता (D) मौसम परिवर्तन
- तलका मध्ये कुन जिल्लामा सबैभन्दा धेरै जनसंख्या रहेको छ ?
(A) दैलेख (B) प्युठान (C) सल्यान (D) बैतडी
- जैविक विविधता दिवस कहिले मनाइन्छ ?
(A) May 22 (B) June 22 (C) April 2 (D) April 22
- दिइएका भनाइहरूमा विचार गरी ठीक विकल्प छान्नुहोस् ।
I) जलवायु परिवर्तनको प्रत्यक्ष प्रभाव हिमाल र हिमनदीमा पर्दछ ।
II) वायु प्रदूषण वातावरणीय प्रदूषणको एक मात्र कारण हो ।
(A) I र II दुबै ठीक छन् । (B) I बेठीक तर II ठीक छ ।
(C) I र II दुबै बेठीक छन् । (D) I ठीक छ तर II बेठीक छ ।
- जोडा मिलाउनुहोस् र सही उत्तर छान्नुहोस् ।
समूह I समूह II
a) जुफाल विमानस्थल 1) बाग्लुङ
b) सल्ले विमानस्थल 2) खोटाङ
c) मनमाया विमानस्थल 3) रुकुम
d) ढोरपाटन विमानस्थल 4) डोल्पा
(A) a-4, b-3, c-1, d-2 (B) a-4, b-3, c-2, d-1 (C) a-4, b-2, c-3, d-1 (D) a-1, b-3, c-4, d-2

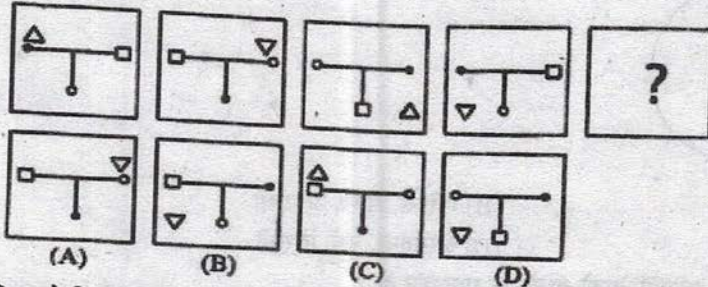
42. ठीक / बेठीक छुट्याउनुहोस् ।
 1. किराँत धर्म विशेष गरी राई-लिम्बुले मान्दछन् ।
 2. बोन धर्म नेपालको विशेष गरी उत्तरी भागमा मान्ने गरिन्छ ।
 (A) 1 ठीक 2 बेठीक (B) 1 बेठीक 2 ठीक (C) दुवै ठीक (D) दुवै बेठीक
43. सन् २०३० सम्म पूरा गर्नेगरी कतिओटा दिगो विकास लक्ष्य र परिमाणात्मक गन्तव्यहरू तय गरिएका छन् ।
 (A) १७ लक्ष्य १६७ गन्तव्य (B) १९ लक्ष्य १६७ गन्तव्य
 (C) १७ लक्ष्य १६९ गन्तव्य (D) १९ लक्ष्य १६९ गन्तव्य
44. समूह I र समूह II बीच जोडा मिलाउनुहोस् र कोडबाट सही उत्तर छान्नुहोस् ।
 समूह I समूह II
 1. बिरुडा a. भजन कीर्तन
 2. मोरियो b. भाँडा
 3. हुड्को c. जागर
 4. खेजडी d. गौरा पर्व
 (A) 1d, 2c, 3b, 4a (B) 1d, 2b, 3c, 4a (C) 1d, 2a, 3b, 4c (D) 1c, 2d, 3a, 4b
45. राष्ट्रिय जनगणना २०६८ अनुसार नेपालमा LP GAS प्रयोग गर्ने परिवारको संख्या कति प्रतिशत रहेको छ ?
 (A) २०.०३ प्रतिशत (B) २१.०३ प्रतिशत (C) २३.०३ प्रतिशत (D) २४.०३ प्रतिशत
46. दिइएको कुन विकल्प म्याट्रिक्सको खाली ठाउँमा उपयुक्त हुन्छ ?



(A) (B) (C) (D)

47. समूह I र समूह II बीच जोडा मिलाई कोडबाट सही उत्तर छान्नुहोस् ।
 समूह I समूह II
 a. १० वर्षभन्दा बढीको बसाइँसराइ 1. अस्थायी बसाइँसराइ
 b. ५-१० वर्षसम्मको बसाइँसराइ 2. स्थायी बसाइँसराइ
 c. देशको एक गाउँबाट अर्को ठाउँमा सर्ने 3. आन्तरिक बसाइँसराइ
 (A) 1-2, b-1, c-3 (B) a-3, b-1, c-2 (C) a-2, b-3, c-1 (D) a-1, b-2, c-3
48. समूह I र समूह II बीच जोडा मिलाउनुहोस् र कोडबाट सही उत्तर छान्नुहोस् ।
 समूह I समूह II
 1. विश्व जनसंख्या दिवस a. मार्च २२
 2. अन्तर्राष्ट्रिय रेडक्रस दिवस b. जुन ५
 3. विश्व पानी दिवस c. मे ८
 4. विश्व वातावरण दिवस d. जुलाई ११
 (A) 1d, 2c, 3a, 4b (B) 1a, 2b, 3c, 4d (C) 1b, 2c, 3d, 4a (D) 1c, 2d, 3b, 4a
49. विश्व स्वास्थ्य संगठन (WHO) को स्थापना कहिले भएको हो ?
 (A) सन् १९४५ (B) सन् १९४७ (C) सन् १९४८ (D) सन् १९५०

८. ICIMOD मा नभएको देश कुन हो ?
 (A) म्यानमार (B) अफगानिस्तान (C) भुटान (D) थाइल्याण्ड
९. नेपाल सरकारले क्षतिपूर्तिसहितको नागरिक वडापत्र कहिलेबाट कार्यान्वयनमा ल्याएको हो ?
 (A) वि.सं. २०७० बैशाख ६ (B) वि.सं. २०७० बैशाख १
 (C) वि.सं २०७० बैशाख २ (D) वि.सं. २०७० बैशाख ७
१०. नेपालका सात प्रदेशमा क्रमशः ८, ९, १०, ११, १२, १३ र १४ जिल्ला पर्दछन् भने प्रदेश नम्बरअनुसार मिलाउँदा यसको क्रम दिइएको मध्ये कुन हुन्छ ?
 (A) ७, २, ६, ४, १, ५, ३ (B) २, ५, ४, ६, ७, ३, १ (C) २, ७, ६, ४, ५, ३, १ (D) २, ६, ७, ३, ५, ४, १
११. भिमसेन थापाले निर्धारण गरेको जग्गाको किसिम कुन हो ?
 (A) अब्बल, दौयम, सिम (B) हल, पाटे, कोदाले (C) नम्बरी, आवादी, विर्ता (D) ऐलानी, पर्ति, नम्बरी
१२. स्थापना वर्षको आधारमा तलका सार्वजनिक संस्थानहरूलाई पुरानोदेखि नयाँको क्रम मिलाउनुहोस् ।
 (A) नेपाल वायुसेवा निगम, दुग्ध विकास संस्थान, नागरिक लगानी कोष
 (B) दुग्ध विकास संस्थान, नेपाल वायुसेवा निगम, नागरिक लगानी कोष
 (C) नेपाल वायुसेवा निगम, नागरिक लगानी कोष, दुग्ध विकास संस्थान
 (D) दुग्ध विकास संस्थान, नागरिक लगानी कोष, नेपाल वायुसेवा निगम
१३. सरकारी सूचना वर्गीकरण समितिको अध्यक्ष को हुन्छ ?
 (A) प्रधानमन्त्री (B) सूचना तथा सञ्चार मन्त्री
 (C) राष्ट्रिय सूचना आयोगको प्रमुख आयुक्त (D) मुख्य सचिव, नेपाल सरकार
१४. वि.सं. २०६८ को जनगणनाअनुसार नेपालमा कति जाति बसोबास गरेका छन् ?
 (A) १२३ जाति (B) १२४ जाति (C) १२५ जाति (D) १२६ जाति
१५. विश्व रक्तदान दिवस कहिले पर्दछ ?
 (A) अप्रिल ७ (B) जुन १४ (C) जुलाई १४ (D) सेप्टेम्बर ३०
१६. दिइएका क्रममा प्रश्नचिन्ह (?) राखिएको ठाउँमा के आउँछ ?



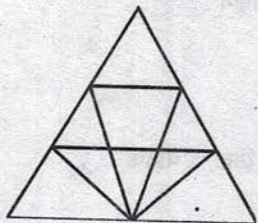
(A)

(B)

(C)

(D)

१७. तल दिइएको चित्रमा कतिवटा त्रिभुजहरू छन्, पत्ता लगाउनुहोस् ।




(A) 12

(B) 18


(C) 22

(D) 26

१८. तल दिइएका चित्रहरूमध्ये एउटा अरुभन्दा फरक छ, त्यो कुन हो ?



१९. दिइएको चित्रमा चतुर्भुजहरूको संख्या कति छ ?



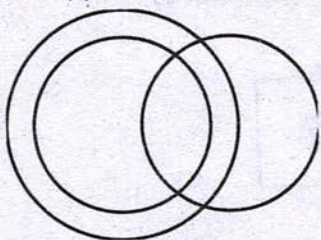
(A) 9

(B) 6

(C) 4

(D) माथिका कुनै होइन

२०. तल दिइएको भेन डायग्रामलाई दिइएका मध्ये कुन विकल्पले प्रतिनिधित्व गर्दछ ?



(A) नेपाल, काठमाडौं, भारत

(B) महिला, आमा, अपराधी

(C) बुबा, गायक, शिक्षक

(D) अस्पताल, नर्स, विरामी

२१. २०१८ को विश्वकप फुटबल प्रतियोगिताको आयोजक राष्ट्र कुन हो ?

(A) ब्राजिल

(B) जर्मनी

(C) रसिया

(D) जापान

२२. तलको भनाइ अध्ययन गरी सही उत्तर छान्नुहोस् ।

a) निकोसिया सिरियाको राजधानी हो ।

b) लेसोथो एउटा भूपरिवेष्टित राष्ट्र हो ।

(A) a र b दुबै ठिक (B) a र b दुबै बेठिक (C) a ठिक, b बेठिक (D) b ठिक, a बेठिक

२३. विश्वको सबैभन्दा पुरानो खेल कुन हो ?

(A) फुटबल

(B) हकी

(C) बास्केट बल

(D) पोलो

२४. लोकसेवा आयोगको लोगो तयार गर्ने व्यक्ति को हुन् ?
 (A) माधव घिमिरे (B) माधव पौडेल (C) माधव अधिकारी (D) माधव रेग्मी
२५. पृथ्वी प्रज्ञा पुरस्कार, २०७४ बाट सम्मानित हुने स्रष्टा को हुन् ?
 (A) सरुभक्त (B) डा. तारानाथ शर्मा (C) माधवप्रसाद घिमिरे (D) कृष्ण धरावासी
२६. निम्नलिखित प्रश्नचिन्ह (?) राखिएको ठाउँमा के आउँछ ?
 eastern, reality, titanic, ?
 (A) natural (B) omnibus (C) include (D) devious
२७. यदि कुनै निश्चित कोडमा 253 को अर्थ books are old, 546 को अर्थ man is old र 378 को अर्थ buy good books हुन्छ भने यो कोडअनुसार are ले के जनाउँछ ?
 (A) 2 (B) 4 (C) 5 (D) 9
२८. राम, हरि, श्याम र कृष्ण एउटै गाउँमा बस्छन् । हरिको घर रामको घरभन्दा पूर्व दिशामा छ तर श्यामको घरभन्दा उत्तर दिशामा छ । श्यामको घर कृष्णको घरभन्दा पश्चिम दिशामा छ भने कृष्णको घर रामको घरबाट कुन दिशामा पर्दछ ?
 (A) उत्तरपूर्व (B) पश्चिम (C) पूर्व (D) दक्षिणपूर्व
२९. निम्नलिखित शब्दहरूको विचार गर्नुहोस् ।
 Dopiness, Uncloaking, Dishwasher
 माथिका सबै शब्दहरूको एक विशेषता/उपयोग हुने निम्नलिखित कुन शब्द हो ?
 (A) Whirlwind (B) Gallant (C) Crossfire (D) Assault
३०. 16 जनाको लाइनमा राम बायाँतर्फ 2 स्थान सरेको छ, बायाँतर्फबाट ऊ 7 औं स्थानमा पर्न आउँछ । सुरुको अवस्थामा लाइनको दायाँ छेउबाट उसको स्थान कतिऔं थियो होला ?
 (A) 7th (B) 8th (C) 9th (D) 10th
३१. पृथ्वीबाट सबैभन्दा नजिकको ग्रह देहायकामध्ये कुन हो ?
 (A) बरुण (B) मंगल (C) शुक्र (D) वृहस्पति
३२. मानिसको घर भनेर कुन महादेशलाई चिनिन्छ ?
 (A) उत्तर अमेरिका (B) दक्षिण अमेरिका (C) एसिया (D) अष्ट्रेलिया
३३. जोडा मिलानमा तलको कुन सही छ ?
 सूची I सूची II
 a) अफ्रिका 1) नयाँ संसार
 b) इराक 2) नाइल
 c) अन्टार्क्टिका 3) बग्दाद
 d) उत्तर अमेरिका 4) हिमचाँदर
 (A) a-2, b-3, c-4, d-1 (B) a-2, b-4, c-1, d-3 (C) a-2, b-3, c-1, d-4 (D) a-1, b-2, c-4, d-3
३४. इन्टरपोलको मुख्य कार्यालय कहाँ रहेको छ ?
 (A) भियना (B) जेनेभा (C) लण्डन (D) लियोन
३५. गुप्तेश्वर महादेवको गुफा कहाँ रहेको छ ?
 (A) पर्वत (B) तनहुँ (C) दाङ (D) गोर्खा
३६. मेची नदीको उद्गमस्थल कहाँ हो ?
 (A) तिब्बत (B) लालीखर्क (C) कञ्चनजंघा हिमाल (D) तुम्लिङटार
३७. सार्क राष्ट्रका राजधानीमध्ये काठमाडौँबाट सबैभन्दा टाढा रहेको राजधानी कुन हो ?
 (A) माले (B) इस्लामाबाद (C) कोलम्बो (D) काबुल
३८. सार्क राष्ट्रहरूको कुल खर्चको कति प्रतिशत नेपालले बेहोर्ने गर्दछ ?
 (A) ३०.३२% (B) २२.५२% (C) १०.७२% (D) ५%

३९. जोडा मिलानमा ठीक उत्तर छान्नुहोस् ।

सूची I

सूची II

a) मानगृह

1) मानदेव

b) सिंहदरबार

2) वीरशमशेर

c) धरहरा

3) चन्द्रशमशेर

d) घण्टाघर

4) भिमसेन थापा

(A) a-2, b-3, c-4, d-1 (B) a-2, b-4, c-1, d-3 (C) a-2, b-3, c-1, d-4 (D) a-1, b-3, c-4, d-2

४०. विश्वमा सबैभन्दा बढी विप्रेषण भित्र्याउने मुलुक कुन हो ?

(A) नेपाल

(B) भारत

(C) चीन

(D) बंगलादेश

४१. निम्न क्रममा विचार गर्नुहोस् र त्यसपछि दिइएको प्रश्नको उत्तर दिनुहोस् ।

1, 121, 12321, 1234321,

माथिको क्रममा अगाडिबाट पचपन्नौं स्थानमा कुन संख्या आउँछ ?

(A) 6

(B) 5

(C) 2

(D) 1

(श्रेणी 1, 121, 12321, 123421, हुँदै गएकाले पचपन्नौं स्थानमा पर्ने अंक 6 हो ।)

४२. यदि a ले * जनाउँछ, b ले + जनाउँछ र d ले - जनाउँछ भने $8a3c24b12d19 = ?$

(A) 7

(B) 14

(C) 31

(D) 70

४३. गढीमाई मन्दिरमा कुखुरा र खसीको बली दिइन्छ। यदि तपाईंले 20 ओटा टाउको र 50 ओटा खुट्टा पाउनुभयो भने कति कुखुरा र कति खसीको बली दिइएको थियो ?

(A) 5 ओटा कुखुरा र 15 ओटा खसी

(B) 12 ओटा कुखुरा र 8 ओटा खसी

(C) 6 ओटा कुखुरा र 14 ओटा खसी

(D) 15 ओटा कुखुरा र 5 ओटा खसी

४४. दिइएका विकल्पहरूमध्येबाट छेडिएको संख्या पत्ता लगाउनुहोस् ।

9	7	4
5	4	3
6	8	?
49	52	25

(A) 4

(B) 5

(C) 6

(D) 7

$[9 \times 6 - 49, 7 \times 8 - 4 = 52, 4 \times 7 - 3 = 25]$

४५. कृष्णले रु. 200 खर्च गरेर क्रमशः रु. 7 र रु. 10 मूल्य पर्ने दुई किसिमका मिठाइहरू किन्न चाहन्छ। कुनै पनि बाँकी नरहने गरी उसले अधिकतम कति संख्यामा किन्न सक्छ ?

(A) 28

(B) 26

(C) 24

(D) 23

४६. कुन निकायले देश विकासका लागि Special Drawing Right-SDR सुविधा उपलब्ध गराउने गर्दछ ?

(A) अन्तर्राष्ट्रिय वित्त निगम

(B) अन्तर्राष्ट्रिय विकास संस्था

(C) विश्व बैंक

(D) अन्तर्राष्ट्रिय मुद्रा कोष

४७. जोडा मिलाउनुहोस् र सही उत्तर छान्नुहोस् ।

a) इस्लाम

1) ४.४%

b) बौद्ध

2) ९%

c) किराँत

3) ३.१%

d) क्रिश्चियन

4) १.४%

(A) a-3, b-2, c-1, d-4 (B) a-1, b-3, c-4, d-2 (C) a-1, b-2, c-3, d-4 (D) a-1, b-4, c-2, d-3

४८. अमुर नदी देशको सिमाना हो ।

(A) भारत र म्यानमार

(B) बंगलादेश र म्यानमार

(C) अफगानिस्तान र पाकिस्तान

(D) रसिया र चीन

४९. सत्यमोहन जोशीले प्राप्त गरेको मदन पुरस्कारको वर्ष र कृति मिलाउनुहोस् ।

a) वि.सं. २०१३

1) नेपाली राष्ट्रिय मुद्रा

b) वि.सं. २०१७

2) हाग्नो लोक संस्कृति

c) वि.सं. २०२८

3) कर्णाली लोक संस्कृति

(A) a-1, b-2, c-3

(B) a-2, b-3, c-1

(C) a-2, b-1, c-3

(D) माथिको कुनैपनि होइन

५०. महमा सबैभन्दा बढी पाइने तत्व कुन हो ?

(A) ग्लुकोज

(B) फ्रुक्टोज

(C) सुक्रोज

(D) माल्टोज

Answer Keys

1.A	2.B	3.A	4.A	5.A	6.D	7.B	8.D	9.C	10.C
11.B	12.A	13.D	14.C	15.B	16.C	17.B	18.C	19.C	20.B
21.C	22.D	23.D	24.D	25.B	26.C	27.A	28.D	29.C	30.B
31.C	32.C	33.A	34.D	35.A	36.B	37.A	38.C	39.D	40.B
41.A	42.A	43.D	44.D	45.B	46.D	47.C	48.D	49.C	50.B

लोक सेवा आयोग

अप्राविधिक तर्फका राजपत्रअनकित द्वितीय श्रेणी, खरिदार वा सोसरह पदको प्रथम चरणको संयुक्त र एकीकृत प्रतियोगितात्मक लिखित परीक्षा

२०७६/१/१८

विषय : सामान्य ज्ञान र सामान्य बौद्धिक परीक्षण
(General Knowledge and General Mental Ability Test)

१. जोडा मिलाउनु होस् ।

सूची I

a) पृथ्वीसुब्बा गुरुङ

b) शेरधन राई

c) डोरमणी पौडेल

d) त्रिलोचन भट्ट

(A) a-1, b-2, c-3, d-4

(C) a-4, b-1, c-3, d-2

२. नेपालको प्रधानमन्त्रीबाट 'प्रधानमन्त्री रोजगार कार्यक्रम' को शुभारम्भ कहिले भयो ?

(A) २०७५ चैत्र १

(C) २०७५ पौष १

३. नेपालको पहिलो दैनिक पत्रिका कुन हो ?

(A) आवाज

(C) शक्तिसुधा

४. गौतम बुद्धको जन्म कहिले भएको थियो ?

(A) इशापूर्व ५४७

(C) इशापूर्व ५५७

५. माल्दिभ्सको राजधानी कुन हो ?

(A) मलावा

(C) म्यानमार

६. 'कर्नर किक' भन्ने शब्द कुन खेलमा प्रयोग हुन्छ ?

(A) फुटबल

(C) बक्सिङ

७. G2G अवधारणा के सँग सम्बन्धित छ ?

(A) वैदेशिक रोजगारी

(C) खाद्य संप्रभुता

८. सन् २०१८ को २१ औं विश्वकप फुटबलको उपाधि कसले जितेको थियो ?

(A) जर्मनी

(C) क्रोएसिया

सूची II

१) प्रदेश नं. १

२) सुदूर पश्चिम

३) प्रदेश नं. ३

४) गण्डकी प्रदेश

(B) a-२, b-३, c-४, d-१

(D) a-४, b-१, c-२, d-३

(B) २०७५ फाल्गुन १

(D) २०७५ माघ १

(B) गोरखापत्र

(D) कालपृष्ठ

(B) इशापूर्व ५५३

(D) इशापूर्व ५६३

(B) माले

(D) मडागास्कर

(B) बास्केटबल

(D) भलिबल

(B) शिक्षा

(D) स्वास्थ्य

(B) कोष्टारिका

(D) फ्रान्स