

लोक सेवा आयोगद्वारा लिइएका खरिदार पदका पुराना प्रश्नहरू

प्रथम पत्र

विषय: सामान्य ज्ञान र सामान्य बौद्धिक परीक्षण

२०६८/१/२७

खुला तर्फ

समय : ४५ मिनेट

पूर्णाङ्क : १००

वस्तुगत बहुउत्तर

(५०×२ = १००)

१. राणाकालमा नेपाललाई कति जिल्लामा विभाजन गरिएको थियो ? ५ ३५
२. सार्कको खर्च व्यहोर्ने प्रमुख राष्ट्र कुन कुन हुन् ? ५ भारत, पाकिस्तान
३. तिला कुन नदीको सहायक नदी हो ? ५ कर्णाली
४. नेपालमा कति प्रकारका संरक्षित चराहरू रहेका छन् ? ५ ९
५. सूर्यको प्रकाश पृथ्वीमा आइपुग्न कति समय लाग्छ ? ५ ८ मिनेट २० सेकेन्ड
६. कुकुरलाई कति डिग्री फरेनहाइटमा ज्वरो आउँछ ? ५ १०२° फरेनहाइट
७. सर्वप्रथम एड्स कुन देशमा पत्ता लागेको हो ? ५ अमेरिका
८. १७ औं एसियाड खेलकुद प्रतियोगिता कुन देशमा आयोजना हुँदैछ ? ५ दक्षिण कोरिया
९. राणा शासनकालमा खड्ग निशाना अड्डाले केलाई जनाउँथ्यो ? ५ तत्कालीन श्री ३ प्रधानमन्त्रीको कार्यालय
१०. लिच्छवि कालमा मन्त्रीसरहको पदलाई के भनिन्थ्यो ? ५ अमात्य
११. पुनरावेदन अदालत र सर्वोच्च अदालतका न्यायाधीशको सेवा निवृत्ति हुने उमेर हदबन्दी कति हो ? ५ क्रमशः ६३ र ६५
१२. सन् २०१० को नोबेल शान्ति पुरस्कार कसलाई प्रदान गरियो ? ५ लिउ जियावो
१३. तराई प्रदेशले नेपालको कति प्रतिशत भूभाग ओगटेको छ ? ५ १७ प्रतिशत
१४. सिउँडीको बोटलाई पूजा गर्ने जाति कुन हो ? ५ मेचे
१५. २०५८ सालको जनगणना अनुसार महिला र पुरुषबीचको अन्तर कति थियो ? ५ २३,५८१
१६. नेपालमा सबैभन्दा धेरै जनसंख्या भएको जनजाति निम्नमध्ये कुन ठीक हो ? ५ मगर
१६. २०५८ सालको जनगणना अनुसार नेपालमा सबैभन्दा धेरै जनसंख्या भएको जनजाति कुन हो ? ५ मगर
१७. उत्तरी ध्रुवदेखि दक्षिणी ध्रुवसम्म फैलिएको महासागर कुन हो ? ५ आन्ध्र महासागर
१८. नेपालमा सामाजिक सेवा दिवस कहिले मनाइन्छ ? ५ असोज ६
१९. ग्रीन पिसको स्थापना कहिले भएको हो ? ५ सन् १९७१
२०. बहाई धर्म कोद्वारा, कहिले र कहाँ सुरुवात भएको हो ? ५ बहउल्लाद्वारा १९ औं शताब्दीमा पर्सियामा
२१. १४ औं सार्क शिखर सम्मेलनमा नेपालका तर्फबाट भाग लिने प्रतिनिधिमण्डलको नेता को थिए ? ५ गिरिजाप्रसाद कोइराला
२२. ११ औं साग खेलमा पहिलो गोल्ड मेडल हासिल गर्ने नेपाली खेलाडी को हुन् ? ५ विनिता महर्जन
२३. डिजेल इन्जिनका आविष्कारक को हुन् ? ५ रुडोल्फ डिजेल
२४. सिंहदरबारमा आगलागी हुँदा नेपालको प्रधामन्त्री को थिए ? ५ कीर्तिनिधि विष्ट
२५. पूर्वप्रधानमन्त्री कृष्णप्रसाद भट्टराईको निधन कहिले भएको हो ? ५ वि.सं २०६७ फागुन २०
२६. पृथ्वी दिवस कहिले मनाइन्छ ? ५ अप्रिल २२

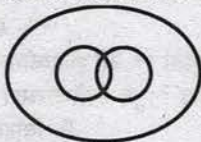
२७. नेपालमा सर्वप्रथम MRP कहिले वितरण गरियो ? Ⓔ वि.सं. २०६७ पौष ११
 २८. चितवनको सौराहामा भएको २०६७ सालको अन्तर्राष्ट्रिय हात्तीपोलो प्रतियोगितामा प्रथम हुने हात्तीको नाम के हो ?
Ⓔ चञ्चलकली
 २९. सुमेरु महासागरले कुन कुन राष्ट्रलाई छुन्छ ? Ⓔ क्यानडा, डेनमार्क, नर्वे, आयरल्याण्ड
 ३०. नेपालमा वैशाख ११ गतेलाई किन महत्त्वपूर्ण मानिन्छ ? Ⓔ लोकतन्त्र दिवस भएकाले
 ३१. निलगड गाढ कुन नदीमा मिसिन्छ ? Ⓔ महाकाली
 ३२. नेपालमा सर्वप्रथम कुन आवधिक योजनादेखि वातावरण तथा भूउपयोग नीति अवलम्बन गरिएको हो ? Ⓔ छैटौँ
 ३३. कुनै अन्तरिक्ष यात्रीको तौल पृथ्वीमा २२० पाउण्ड हुन्छ भने चन्द्रमामा उसको तौल कति होला ?
Ⓔ ३६.६७ पाउण्ड (∴ २२० × १/६)
 ३४. ओजोन तह पृथ्वीको सतहबाट कति माथि रहेको छ ? Ⓔ २५-४० कि.मि.सम्म
 ३५. तलका मध्ये कुन राष्ट्र संयुक्त राष्ट्रसंघको स्थायी सदस्य होइन ? Ⓔ जर्मनी

सामान्य बौद्धिक परीक्षण (General Mental Ability Test)


३६. किसानको खेत भएजस्तै शिक्षकको के हुन्छ ? Ⓔ विद्यालय
 ३७. तल दिइएका अंगहरूमध्ये कुनचाहिँ अरुभन्दा फरक छ ?
 (a) नाक (b) कान (c) आँखा (d) मस्तिष्क Ⓔ (d)
 ३८. देहायमा उल्लिखित क्रममा समूहमा मिल्ने अक्षर पत्ता लगाउनुहोस् ।
 ख, च, ज, (?), द, फ, य Ⓔ ण
 ३९. तल दिइएकामध्ये समूहमा नमिल्ने छुट्याउनुहोस् ।
 (a) नौनी (b) दही (c) तेल (d) चीज Ⓔ (c)
 ४०. कुनै कोड भाषामा CAR लाई BZQ लेखिन्छ भने TRAIN लाई के लेख्नुपर्ला ? Ⓔ SQZHM
 ४१. 7:49 :: 5: ?
 (a) ९ (b) ३५ (c) २५ (d) १२५ Ⓔ (c)
 ४२. दिइएको क्रममा मिल्ने अंक पत्ता लगाउनुहोस् ।
 ८, १८, ३०, ४४, ? Ⓔ ६०
 ४३. निम्नलिखित अंकहरूमध्ये एउटा अरुभन्दा फरक छ, सो फरक अंक पत्ता लगाउनुहोस् ।
 (a) 9 (b) 19 (c) 76 (d) 38 Ⓔ (a)
 ४४. COBRA लाई 3, 15, 2, 18, 1 द्वारा लेखिन्छ भने ZEBRA लाई के लेख्नुपर्ला ? Ⓔ 26, 5, 2, 18, 1
 ४५. दिइएको मेट्रिक्स पूरा गर्नुहोस् ।

1	2	3	9
2	3	5	25
3	5	8	?


४६. तल उल्लेखित चित्रहरूमध्ये कुनचाहिँ चित्रले कमिला, किरा र सजीवबीचको सम्बन्धलाई राम्ररी प्रतिनिधित्व गर्छ ?



(A)



(B)



(C)

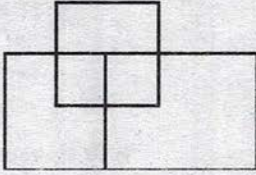


(D)

Ⓔ ६४

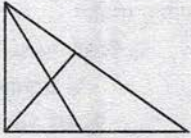
Ⓔ (b)

४७. तल दिइएको चित्रमा कुल कतिवटा चतुर्भुजहरू रहेका छन् ?



५४

४८. तल दिइएको चित्रमा त्रिभुजको कुल संख्या पत्ता लगाउनुहोस् ।



(a) 4 (b) 5 (c) 7 (d) 8

५ (d)

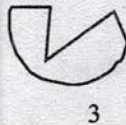
४९. तलका मध्ये कुन २ चित्र मिलाउँदा एउटा वृत्त बन्दछ ?



1



2



3



4

(a) 1+2 (b) 2+4 (c) 1+4 (d) 2+3

५ (c)

प्रथम पत्र

विषय: सामान्यज्ञान र सामान्य बौद्धिक परीक्षण

२०६८/२/२७

समावेशी तर्फ

समय : ४५ मिनेट

वस्तुगत बहुउत्तर

१. रुपसे भरना कुन जिल्लामा पर्दछ ?
२. महानगरपालिका हुनका लागि वार्षिक कति आम्दानी हुनुपर्ने व्यवस्था छ ?
३. नेपालको कुन नदीमाथि निर्मित पुललाई one pillar bridge भनि चिनिन्छ ?
४. मानव निर्मित विश्वको ठूलो ताल "ओवन फल्स" कुन देशमा पर्दछ ?
५. पाल्पाको रानीघाट दरबार कसले निर्माण गरेका हुन् ?
६. कुन महासागरलाई बाणिज्य महासागर नामले चिनिन्छ ?
७. नेपालमा ८५०० मिटरभन्दा बढीउचाइ भएका हिमशिखर कतिवटा छन् ?
८. गोसाइँकुण्ड कति उचाइमा रहेको छ ?
९. वातावरणसम्बन्धी पहिलो अन्तर्राष्ट्रिय सम्मेलन कहाँ भएको थियो ?
१०. नेपालमा ऐतिहासिक संविधानसभाको निर्वाचन कहिले भएको थियो ?
११. तामाङ जातिले बजाउने बाजा "डम्फु" कुन जनावरको छालाबाट बनाउने गरिन्छ ?
१२. हालसम्म नेपालको कुन जिल्लामा कमलरी मुक्त जिल्ला घोषणा गरिएको छ ?

पूर्णाङ्क १००

(५०×२ = १००)

५ म्याग्दी

५ रु. ४० करोड

५ कर्णाली

५ उगाण्डा

५ खड्गशमशेर

५ आन्ध्र महासागर (atlantic ocean)

५ ३ वटा

५ ४३६० मि.

५ स्टकहोम

५ वि.सं. २०६४ चैत २८

५ मृग

५ दाङ

१३. महात्मा गान्धीको हत्या कहिले भएको थियो ? ☞ सन् १९४८ जनवरी ३०
१४. नेपालमा प्यागोडा शैलीको सुरुवात कहिलेदेखि भएको मानिन्छ ? ☞ ११ औं शताब्दी
१५. अन्तरिक्ष प्रवेश गर्ने विश्वको पहिलो महिला कुन देशकी हुन् ? ☞ रुस
१६. विश्वकप क्रिकेट, २०११ को उपाधि जित्ने राष्ट्र कुन हो ? ☞ भारत
१७. २०६७ सालसम्ममा नेपालको अन्तरिम संविधान, २०६३ मा कतिपटक संशोधन भयो ? ☞ ८ पटक
१८. गोरखापत्र कहिलेदेखि अर्धसाप्ताहिकरूपमा प्रकाशित हुन थालेको थियो ? ☞ वि.सं. २००० आश्विन
१९. चन्द्रमाको गुरुत्वाकर्षण पृथ्वीको गुरुत्वाकर्षणको करिब ...छ। ☞ १/६
२०. भ्रष्टाचारविरुद्धको संयुक्त राष्ट्रसंघीय महासन्धिलाई नेपालको व्यवस्थापिका संसदले कहिले अनुमोदन गर्‍यो ? ☞ वि.सं. २०६७ फागुन १२
२१. बालन नाच तलका मध्ये कुन समुदायसँग सम्बन्धित छ ? ☞ ब्राह्मण क्षेत्री दुबै
२२. जापानमा ८.९ रेक्टरस्केलको विनाशकारी भूकम्प कहिले गएको थियो ? ☞ सन् २०११ मार्च ११
२३. My land and my people नामक पुस्तक कसले लेखेका हुन् ? ☞ दलाई लामा
२४. त्रिवर्षीय अन्तरिम योजना (२०६४।६५।२०६६।६७) मा नेपालको आर्थिक वृद्धिदर कति हासिल गर्ने लक्ष्य थियो ? ☞ ५.५ प्रतिशत
२५. स्वयम्भुका दुई आँखालाई केको प्रतीक मानिन्छ ? ☞ करुणा र ज्ञान
२६. सार्क सामुद्रिकतटवर्ती क्षेत्र व्यवस्थापन केन्द्र कुन देशमा रहेको छ ? ☞ माल्दिभ्स
२७. नेपाल पर्यटक वर्ष, २०११ को मूल नारा के हो ? ☞ पर्यटनका लागि सँगसँगै
२८. नेपालमा वैकल्पिक ऊर्जा प्रवर्द्धन केन्द्रको स्थापना कहिले भएको हो ? ☞ वि.सं. २०५३
२९. सुकेनास (marasmus) रोग लाम्बुको मुख्य कारण के हो ? ☞ कार्बोहाइड्रेट र प्रोटीनको कमी
३०. Bank of the year २०१० को उपाधि जित्ने बैंक कुन हो ? ☞ नेपाल इन्भेस्टमेन्ट बैंक
३१. रेबिज रोग विरुद्धको खोपका आविष्कारक को हुन् ? ☞ लुई पाश्चर
३२. राष्ट्रिय जनगणना, २०५८ अनुसार सबैभन्दा बढी र सबै भन्दा कम जनसंख्या भएको जाति कुन हो ? ☞ क्रमशः क्षेत्री र कुसुण्डा
३३. विद्युतका पिता भनी चिनिने वैज्ञानिक को हुन् ? ☞ माइकल फाराडे
३४. १७ औं एसियाली खेलकुद प्रतियोगिता कहाँ हुँदैछ ? ☞ दक्षिण कोरिया
३५. संयुक्त राष्ट्रसंघले सन् २०११ लाई कुन वर्षका रूपमा मनायो ? ☞ सहकारी वर्ष
३६. युद्ध :विनाश भने भै शान्तिको के ? ☞ प्रगति
३७. तल दिइएका मध्ये समूहमा नमिल्ने छुट्याउनुहोस्।
(a) कागज (b) कलम (c) मसी (d) पुस्तक ☞ (d)
३८. तल दिइएको क्रममा खाली ठाउँ अर्थात् प्रश्नवाचक (?) चिन्ह लेखिएको ठाउँमा के हुन्छ ?
G, J, M, (?), S, V ☞ P
३९. K नामक स्थान L देखि ४० मिटर दक्षिण पश्चिम दिशामा छ। यदि L देखि M ४० मिटर दक्षिण पूर्व दिशामा छ भने K बाट M कुन दिशामा छ ? ☞ पूर्व
४०. तलको श्रेणीमा मिल्ने अंक छनोट गर्नुहोस्। ४, ९, १९, ३९, ७९, (?)
(a) १२९ (b) १५९ (c) १३९ (d) १७९ ☞ (b)
४१. Good morning लाई कुनै कोड भाषामा ११, Good Afternoon लाई १३ लेखिन्छ भने Good night लाई के लेख्नुपर्छ ?
☞ ९ [अक्षरको संख्या जोडी कोड निर्धारण गरिएको]
४२. ७००, ७०, ७ भएजस्तै तलको कुन मिल्छ ?
(a) ६००, ६, ६० (b) ६००, ६०, ६० (c) ६, ६००, ६०० (d) ६००, ६०, ६ ☞ (d)
☞ [१० ले भाग गर्दै पछिल्ला पद निर्धारण गरिएका]
४३. MASK लाई कुनै कोड भाषामा ४१६५ र NOVA लाई ७२८१ लेखिन्छ भने KASAK लाई कति लेख्नुपर्ला ?
(a) ५१६५१ (b) ५११६५ (c) ५१६५१ (d) ५१६५१ ☞ (c)

४४. Row र Column मा दिइएका अंकहरूको सम्बन्ध पत्ता लगाई खाली ठाउँ अर्थात् (?) चिन्ह भएको ठाउँमा मिल्ने अंक छनोट गर्नुहोस् ।

2	4	6
5	7	9
12	30	?

- (a) 25 (b) 54 (c) 42 (d) 56 (e) (d)


$$[R_1 \times R_2 + 2 = R_3]$$

४५. (?) चिन्ह भएको ठाउँमा मिल्ने अंक छनोट गर्नुहोस् ।

5	20	100	3	24
20	80	400	12	?

- (a) 48 (b) 120 (c) 96 (d) 144 (e) (96)


४६. जनावर, बाघ र गिद्धको सम्बन्धलाई तलको कुन चित्रले राम्ररी प्रतिनिधित्व गर्दछ ?




(A)



(B)

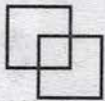


(C)



(D)

४७. तल दिइएका चारथरि चित्रहरूमध्ये कुनचाहिँ अरुभन्दा फरक छ ?



(A)



(B)



(C)



(D)

- (e) (D)

प्रथम पत्र

विषय: सामान्यज्ञान र सामान्य बौद्धिक परीक्षण

२०६८

सुला तर्फ

समय : ४५ मिनेट

वस्तुगत बहुउत्तर

(क) सामान्य ज्ञान (General knowledge)

१. नेपाल गणतन्त्रात्मक राज्य कहिले भयो ?

२. छैठौँ राष्ट्रिय खेलकुद प्रतियोगिताको उद्घाटन समारोह कहिले सम्पन्न भएको थियो ?

३. निम्न लिखितमध्ये ठीक कुन हो/हुन् ?

पूर्णाङ्क १००

(५०×२ = १००)

(३५×२=७०)

जेठ १५, २०६५

वि.सं. २०६८ फागुन १४ गते

१. ATM को पूरा रूप (Automated Teller Machine हो, जुन e-banking सँग सम्बन्धित छ।

२. DTH को पूरा रूप Direct To Home हो, जुन Telecommunication सँग सम्बन्धित छ।

(a) १ र २ दुबै ठीक (b) १ बेटीक तर २ ठीक (c) १ ठीक तर २ बेटीक (d) १ र २ दुबै बेटीक

४. नेपालको हालको राष्ट्रिय गानको संगीत संयोजन कोद्वारा गरिएको हो ?

अम्बर गुरुङ

५. समूह I र II को जोडा मिलाई कोडबाट सही उत्तर छान्नुहोस् ।

समूह I

समूह II

- a) पूर्णिमा
b) क्राइष्ट
c) विष्णुगुप्त
d) कार्ल मार्क्स

1. इजरायल
2. कौटिल्य
3. इड्ल्याण्ड
4. बुद्ध

☞ a4, b1, c2, d3

६. विश्वको सबभन्दा होची महिला को हुन् ?
☞ ज्योती अम्बो
७. नेपालमा सबभन्दा पहिला बजेट प्रस्तुत कहिले भएको हो ?
☞ वि.सं. २००८ माघ २१ गते
८. संयुक्त राष्ट्रसंघको स्थापना कहिले भएको हो ?
☞ २४ डिसेम्बर १९४५
९. राष्ट्रिय अभियानको रूपमा नेपाल पर्यटन वर्ष भनेर कुन वर्षलाई मनाइयो ?
(a) सन. २०१० (b) सन् २०११ (c) सन् २०१२ (d) माथिका सबै हुन्
☞ (d)
१०. तलका मध्ये कुनचाहीँ सार्कका संस्थापक सदस्य राष्ट्र हो/हुन् ?
(a) नेपाल (b) माल्दिभ्स (c) भूटान (d) माथिका सबै हुन्
☞ (d)
११. प्रत्येक वर्ष लोकसेवा आयोगले आफूले गरेको कामको वार्षिक प्रतिवेदन को समक्ष पेश गर्नुपर्ने व्यवस्था छ ?
☞ राष्ट्रपति समक्ष
१२. राणाकालमा नेपाललाई कति जिल्लामा विभाजन गरिएको थियो ?
☞ ३५
१३. कृषि उत्पादनका हिसाबले सबैभन्दा उर्वर र उत्पादनशील माटो हो ।
☞ तलैया माटो
१४. वायुमण्डल/हावामा निम्न मध्ये कुन ग्याँसको प्रतिशत तेस्रो बढी हुन्छ ?
(a) अक्सिजन (b) नाइट्रोजन (c) कार्बनडाइअक्साइड (d) आर्गन
☞ (d)
१५. हाल नेपालमा प्रति हेक्टर रुख संख्या छ ।
☞ ४०८
१७. जलवायु परिवर्तनसम्बन्धी ग्रेजुएट सम्मेलन कहिले सम्पन्न भयो ?
☞ वि.सं. २०६७ कार्तिक २९-मंसिर ३ सम्म
१८. जैविक विविधता प्रणालीलाई प्रकारमा विभाजन गरिएको छ ।
☞ ३
१९. प्राणीहरूको विकासवादी सिद्धान्तका प्रतिपादक को हुन् ?
☞ चार्ल्स डार्विन
२०. निम्नलिखित भाषाहरूबारे विचार गर्नुहोस् ।
१. नेपाली २. मगर
३. हिन्दी ४. नेवारी
- माथि उल्लिखित भाषाहरूमा भारोपेली भाषिक परिवार भित्र नपर्ने भाषा कुन हो/हुन् ?
(a) ३ मात्र (b) १, २ र ४ मात्र (c) १ र ३ मात्र (d) २ र ४ मात्र
☞ (d)
२१. नेपालमा योजनाबद्ध विकासको सुरुवात कहिले भयो ?
☞ वि.सं. २०१३
२२. नेपालको पहिलो राजमार्ग कुन हो ?
☞ त्रिभुवन राजमार्ग
२३. समूह I र II को जोडा मिलाई कोडबाट सही उत्तर छान्नुहोस् ।

समूह I	समूह II
a) मगर	1. पण्डित
b) नेवार	2. भुसाल
c) थारु	3. गुभाजु
d) क्षेत्री	4. भर्ता

- (a) a-1, b-2, c-3, d-4 (b) a-4, b-3, c-2, d-1 (c) a-2, b-3, c-4, d-1 (d) a-3, b-4, c-2, d-1

☞ (a) a-1, b-2, c-3, d-4

२४. रातो मच्छिन्द्रनाथको जात्रा कसले चलाएका हुन् ?
☞ नरेन्द्रदेव
२५. नेपालमा सर्वप्रथम चाँदीको मुद्रा कसले चलाए ?
☞ महिन्द्रमल्ल
२६. निर्दलीय पंचायती व्यवस्थाको विरुद्ध नेपाली कांग्रेस र संयुक्त वाममोर्चा मिलेर कहिलेदेखि आन्दोलन सुरु गरे ?
☞ वि.सं. २०४६ फागुन ७