
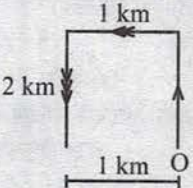


४३.	D	सुरुका तीन वटा चित्रहरू नै repeat भएका छन् तर repeat हुँदा 180° CW दिशामा घुमेर रहेका छन्। Dot पनि alternately black/white भएको छ।
४४.	D	
४५.	B	
४६.	A	
४७.	A	
४८.	B	
४९.	D	Each term is the sum of previous two terms. $\therefore ? = 18 + 29 = 47$
५०.	B	

सेट - १६

- अन्तरिक्षमा प्रवेश गर्ने भारत कतिऔं राष्ट्र हो ?
A) तेस्रो B) चौथो C) पाँचौं D) कुनै पनि होइन।
- जलवायुको हिसाबले सबैभन्दा बढी तापिय भिन्नता कति डिग्री अक्षांशमा हुन्छ ?
A) $20^\circ - 30^\circ$ बिचमा B) $15^\circ - 35^\circ$ बिचमा C) 5° तलमाथि D) $30^\circ - 45^\circ$ बिचमा
- दिइएका भनाईमध्ये कुन भनाई सही हो/हुन् ?
i) अष्ट्रेलिया महादेशले पृथ्वीको कुल स्थल भागको करिब ५.३ प्रतिशत भाग ओगटेको छ।
ii) हर्ड आइल्याण्ड अष्ट्रेलियाको सबै भन्दा लामो हिमनदी हो।
iii) अष्ट्रेलियाका आदिवासिहरूलाई एवोरोजिनिज भनिन्छ।
iv) अष्ट्रेलिया महादेशको सबैभन्दा अग्लो भू-भाग जाया पन्कक हो।
A) i, ii र iv मात्र सही B) iii र iv मात्र सही C) i मात्र सही D) माथिका सबै सही
- नेपालमा मनसुनको प्रभाव सर्वप्रथम कुन क्षेत्रमा देखा पर्दछ ?
A) पूर्वी तराई B) मध्य तराई C) पश्चिमी तराई D) कर्णाली क्षेत्र
- गिरी दह कुन जिल्लामा रहेको छ ?
A) हुम्ला B) जुम्ला C) कालिकोट D) तेह्रथुम
- नेपाल सरकारले राना थारुलाई कुन वर्गमा वर्गीकरण गरेको छ ?
A) लोपोन्मुख B) सिमान्तकृत C) अति सिमान्तकृत D) सुविधा वञ्चित
- रण बहादुर शाहका पालामा घटेका पर्वहरू मध्ये तलका कुन होइन ?
A) बासठीहरण B) राहदानी C) बटागी D) वकाली
- नेपालमा सर्वप्रथम हवाई दुर्घटना कहिले भएको थियो ?
A) वि.सं.२०११ भाद्र ३०, विराटनगर B) वि.सं.२०३० साउन १४, नेपालगञ्ज
C) वि.सं.२०१७ कार्तिक २०, भैरहवा D) वि.सं.२०१५ असोज २०, पोखरा

९. देहायका भनाई अध्ययन गरी सही भनाई रोजुहोस् ।
 i) जैतुन जोन बाजुरा जिल्लामा स्थापना गरिएको छ ।
 ii) नेपालमा चिया खेतीको सुरुवात वि.सं.१९२० देखि इलामबाट सुरु भएको हो ।
 iii) मकै खेतीका लागि सामान्यतया: २१ डिग्री सेल्सियस तापक्रम आवश्यक पर्दछ ।
 iv) **Tropical Fruits** नेपालको तराई, दून एवम् चुरे पहाड क्षेत्रमा उत्पादन गरिन्छ ।
 A) i, iii र iv मात्र सही B) ii र iv मात्र सही C) iv मात्र सही D) माथिका सबै सही
१०. प्रवेशाज्ञा नपाई अर्को देशमा गएर बस्नुलाई के भनिन्छ ?
 A) आप्रवास B) प्रवास C) पुनर्वास D) माथिका कुनै होइन
११. देहायका भनाईमध्ये सही भनाई पहिचान गर्नुहोस् ।
 i) सबैभन्दा हलुका ग्याँस हाइड्रोजन हो ।
 ii) प्रकाशबारे अध्ययन गर्ने विज्ञानलाई **Optics** भनिन्छ ।
 iii) विरूवाको उत्पत्ति तथा विकासबारे अध्ययन गर्ने शास्त्रलाई **Phytology** भनिन्छ ।
 iv) वायुको गति र दिशा पत्ता लगाउने यन्त्रलाई **Anemometer** भनिन्छ ।
 A) i र iv मात्र B) i, ii र iv मात्र C) i, ii र iii मात्र D) सबै
१२. सन् १९४५ डिसेम्बर २७ मा स्थापना भएको IMF र IBRD को सदस्यता नेपालले कहिले प्राप्त गरेको हो ?
 A) सन् १९४८ B) सन् १९४६ C) सन् १९५५ D) सन् १९६१
१३. तलका भनाई विचार गर्नुहोस् ।
 क) **Child of War** भन्नाले **League of Nation** लाई बुझिन्छ ।
 ख) **UNO** को स्थापना हुदाँ अमेरिकाका राष्ट्रपति फ्रेडकलिन रूज्वेल्ट थिए ।
 ग) **United in diversity European Union** सँग सम्बन्धित छ ।
 A) ख मात्र गलत B) ख र ग ठीक C) सबै ठीक D) सबै बेठीक
१४. मिस नेपाल २०२० को अडिसन नभएको शहर तलका मध्ये कुन हो ?
 A) काठमाडौँ B) धरान C) पोखरा D) इटहरी
१५. बौद्धिकताको वास्तविक मुहान ज्ञान होइन, कल्पना हो भन्ने विचारक को हुन् ?
 A) अल्बर्ट आइन्स्टाइन B) ए.पि.जे.अफ दुलकलाम
 C) ग्यालिलियो ग्यालिली D) सर आई ज्याक न्यूटन
१६. नेपालको संविधान बमोजिम प्रदेश सभा कति सदनात्मक हुने व्यवस्था रहेको छ ?
 A) एक सदनात्मक B) दुई सदनात्मक C) तीन सदनात्मक D) चार सदनात्मक
१७. देहायको भनाइको आधारमा सही विकल्प छनौट गर्नुहोस् ।
 a. नेपाली राजनीतिका सकुनी भनेर ऋषिकेश शाहलाई चिनिन्छ ।
 b. माहिला मिनिस्टर भनेर बम बहादुर राणालाई चिनिन्छ ।
 c. नेपालको इतिहासमा बुलेट महाराजा भनेर युवराज त्रैलोक्यलाई चिनिन्छ ।
 A) a र b सही B) a र c सही
 C) a सही D) सबै सही
१८. समूह 'क' र समूह 'ख' बीच जोडा मिलाई कोडबाट सही उत्तर छान्नुहोस् ।
 समूह 'क' समूह 'ख'
 a. मिश्रको सभ्यता 1. टिग्रिस/युफ्रेटस नदी
 b. मेसोपोटामियाको सभ्यता 2. ह्वाडहो/याडसिक्याड नदी
 c. युनानी सभ्यता 3. नाइल नदी
 d. चीनको सभ्यता 4. टाइवर नदी
 A) a-1, b-4, c-3, d-2 B) a-4, b-3, c-2, d-1
 C) a-4, b-3, c-1, d-2 D) a-3, b-1, c-4, d-2

१९. मधेश प्रदेशमा कति वटा उपमहानगरपालिका रहेका छन् ?
 A) 1 B) 2 C) 3 D) 4
२०. समूह I र II मा जोडा मिलाउनुहोस् र कोडबाट सही उत्तर छनौट गर्नुहोस् ।
 समूह I समूह II
 a. भोजपुरी 1. ५.१ प्रतिशत
 b. थारु 2. ५.८ प्रतिशत
 c. तामाङ 3. ११.७ प्रतिशत
 d. मैथली 4. ६ प्रतिशत
 A) a-4,b-2,c-1,d-3 B) a-3,b-4,c-1,d-2 C) a-1, b-2, c-3, d-4 D) a-4,b-2,c-3,d-1
२१. नेपालका हिमालहरूको उपनामका आधारमा जोडा मिलाउनुहोस् ।
 a. उर्केमा 1. अमादब्लम
 b. लेडिज पिक 2. वेडेन पाबेल
 c. जासम्बा 3. पसाङल्हामु
 d. जुगल 4. भैरबटकुरा
 A) a-2,b-1,c-3,d-4 B) a-2,b-1,c-4,d-3 C) a-4, b-2, c-3, d-1 D) a-3,b-2,c-1,d-4
२२. तलका भनाइबारे विचार गर्नुहोस् ।
 i) सबैभन्दा बढी भाषिक विविधता भएको प्रदेश गण्डकी हो ।
 ii) सबैभन्दा कम भाषिक विविधता भएको प्रदेश कर्णाली हो ।
 iii) सुदूरपश्चिम प्रदेशमा बढी बोलिने मातृभाषा मैथली हो ।
 A) सबै ठीक B) ii मात्र ठीक C) i ठीक iii ठीक D) ii र iii ठीक
२३. सूर्यको अध्ययन गर्ने पहिलो मानवयुक्त अन्तरिक्ष यान कुन हो ?
 A) भोस्तोक B) मेरिनर C) स्काइल्याब D) एपोलो
२४. पहिलो विश्वयुद्धताका नेपालका राजा त्रिभुवन थिए भने दोस्रो विश्वयुद्धको समयमा राजा को थिए ?
 A) पृथ्वी विर विक्रम शाह B) श्री ५ महेन्द्र
 C) त्रिभुवन D) कुनै पनि होइन
२५. काठमाण्डौं शहरको स्थापना गर्ने राजा को हुन् ?
 A) गुणकामदेव B) लक्ष्मीकामदेव C) दुबै ठीक D) दुबै बेठीक
२६. समूह I र II मा जोडा मिलाउनुहोस् र कोडबाट सही उत्तर छनौट गर्नुहोस् ।
 समूह I समूह II
 a. भारोपेली 1. सुनुवार
 b. आग्नेयाली 2. सतार
 c. द्रविड 3. भौंगड
 d. भोटबर्मेली 4. दनुवार
 A) a-4,b-2,c-1,d-3 B) a-3,b-4,c-1,d-2 C) a-1, b-2, c-3, d-4 D) a-4,b-2,c-3,d-1
२७. जोडा मिलाउनुहोस् ।
 a. नेपालको सबैभन्दा ठुलो हिमताल 1. तिलिचो ताल
 b. घोडाघोडी तालको अर्को नाम 2. कपिल ताल
 c. भाले बास्ने ताल 3. च्छेरोल्पा हिमताल
 d. सबैभन्दा अग्लो स्थानमा रहेको ताल 4. म्याग्दी
 A) a-2,b-1,c-3,d-4 B) a-3,b-2,c-1,d-4 C) a-3, b-2, c-4, d-1 D) a-3,b-2,c-1,d-4
२८. जोडा मिलाई कोडबाट सही उत्तर छान्नुहोस् ।
 i) विद्युत चुहावट a) ६५.९ प्रतिशत
 ii) टेलिफोनको घनत्व b) १०.९५ प्रतिशत

- iii) सार्वजनिक संस्थानको योगदान c) १३०.३ प्रतिशत
iv) नेपालको साक्षरता d) १५.३ प्रतिशत
- A) i-a, ii-c, iii-d, iv-b B) i-b, ii-c, iii-d, iv-a
C) i-d, ii-c, iii-b, iv-a D) i-a, ii-b, iii-c, iv-d
२९. समूह I र II मा जोडा मिलाउनुहोस् र कोडबाट सही उत्तर छनौट गर्नुहोस् ।
- | | |
|------------------|------------------|
| समूह I | समूह II |
| a. हरियो पात | 1. कुकुर विटामिन |
| b. काँक्रोको फेद | 2. क्लोरोफिल |
| c. सूर्यमुखी फुल | 3. थियोब्रोमिन |
| d. कोकाकोला | 4. अक्सिन |
- A) a-2, b-1, c-4, d-3 B) a-2, b-1, c-3, d-4 C) a-1, b-2, c-3, d-4 D) a-4, b-2, c-3, d-1
३०. कुन राणा प्रधानमन्त्रीले गोरखापत्रको सुरुवात गरेका थिए ?
A) देवशमशेर B) चन्द्रशमशेर C) भीमशमशेर D) पद्मशमशेर
३१. निर्देशन : अक्षरहरूको समुहमा व्यञ्जन वर्ण र स्वर वर्ण alternately आउनु पर्दछ ।
A) BISAKHA B) GELATINO
C) KAMASUTRA D) MANDIBLE
३२. यदि कुनै घडीमा 7 बज्ज 7 सेकेण्ड लाग्छ भने, त्यस घडीमा 10 बज्ज कति समय लाग्छ ?
A) 7 सेकेण्ड B) 9 सेकेण्ड C) 10 सेकेण्ड D) 10.5 सेकेण्ड
३३. यदि 12348 : 32418
र 12489 : 84129
र 24567 : 57624
भए 12789 : ??
A) 18729 B) 17928 C) 92718 D) 28917
३४. Indira Eshwarappa
Mandi Merchant
Beemasamudra Chitradurga
दिइएको सूचीसँग दुस्तै मिल्ने सूची विकल्पहरू मध्येबाट छनौट गर्नुहोस् ।
A) Indira Eshahwarapa
Mandi Merchant
Beemasamudra Chitradurga
B) Indira Eshwarappa
Mandi Marchant
Beemasamudra Chitradurga
C) Indira Eshwarappa
Mandi Merchant
Beemasamudra Chitradurga
D) Indira Eshwarappa
Mandi Merchant
Baamasamudra Chitradurgra
३५. तल दिइएको अनुक्रममा प्रश्नवाचक चिन्हको ठाउँमा के हुन्छ ?
- | | | | | | |
|-----|-----|-----|-----|-----|---|
| 195 | 383 | 575 | 763 | 955 | ? |
|-----|-----|-----|-----|-----|---|
- A) 1053 B) 1143 C) 1179 D) 1276

३६. एक व्यापारीले 34 रूपैयाँको 8 वटाका दरले केही स्याउ खरिद गर्छ र 57 रूपैयाँको 12 वटाका दरले ती स्याउ विक्री गर्छ । रु. 45 नाफा कमाउनको लागि उसले कति वटा स्याउ विक्री गर्नुपर्छ ?

- A) 90 B) 100 C) 135 D) 150

३७. उपयुक्त विकल्प छनौट गरी खाली ठाउँ भर्नुहोस् ।

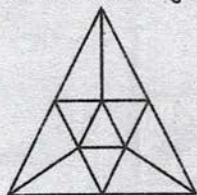
9	4	20
8	5	12
7	6	?

- A) 2 B) 4 C) 6 D) 9

३८. रु. 1066 A, B, C र D माफ्रमा $A : B = 3 : 4$, $B : C = 5 : 6$ र $C : D = 7 : 5$ अनुपातमा बाँड्ने हो भने सबैभन्दा बढी रकम कसले पाउँछ ?

- A) A B) B C) C D) D

३९. तलको प्रश्नमा त्रिभुजको संख्या कति हुन्छ ?

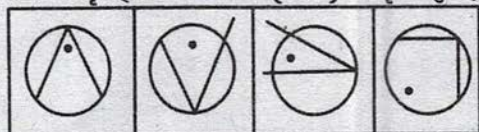


- A) 16 B) 15 C) 14 D) 13

४०. X, Y को श्रीमान हो । W, X को छोरी हो । Z, W को श्रीमान हो । N, Z को छोरी हो । N लाई Y ले के भन्नुपर्छ ?

- A) काकी B) भतिजी C) छोरी D) नातिनी

४१. अन्य आकृतिहरू भन्दा भिन्न (odd) आकृति कुन हो ?



- (A) (B) (C) (D)

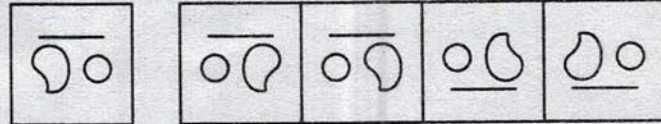
४२. उपयुक्त विकल्प छनौट गरी श्रेणी पुरा गर्नुहोस् ।

A, D, H, K, O, ?

- A) P B) Q C) R D) S

४३. दिईएको प्रश्न आकृतिको सही दर्पण प्रतिबिम्ब कुन हुन्छ ?

A B



- (a) (b) (c) (d)

४४. सूर्यास्त हुनुभन्दा अगाडि बेलुकाको समयमा रिया र प्रिया एक आपसमा यसरी कुरा गरिरहेका थिए कि उनीहरूको पछाडिको भाग (डाड) एक अर्कातिर फर्किएको थियो । यदि रियाको छायाँ उनैको बायाँतर्फ भए प्रिया कुन दिशातर्फ फर्केकी थिइन् ?

- A) पूर्व B) पश्चिम C) उत्तर D) दक्षिण

३९.	B	<div style="text-align: center;"> </div> <table border="1" style="width: 100%; margin-top: 10px;"> <thead> <tr> <th>कति भागले बनेको त्रिभुज</th> <th>त्रिभुजको नाम</th> <th>त्रिभुज संख्या</th> </tr> </thead> <tbody> <tr> <td>1 भाग</td> <td>a, b, c, d, e, f, g, h, i, j</td> <td>10</td> </tr> <tr> <td>2 भाग</td> <td>ab, de, gh</td> <td>3</td> </tr> <tr> <td>4 भाग</td> <td>ijcf</td> <td>1</td> </tr> <tr> <td>10 भाग</td> <td>ABC</td> <td>1</td> </tr> <tr> <td colspan="2"></td> <td>जम्मा = 15</td> </tr> </tbody> </table>	कति भागले बनेको त्रिभुज	त्रिभुजको नाम	त्रिभुज संख्या	1 भाग	a, b, c, d, e, f, g, h, i, j	10	2 भाग	ab, de, gh	3	4 भाग	ijcf	1	10 भाग	ABC	1			जम्मा = 15
कति भागले बनेको त्रिभुज	त्रिभुजको नाम	त्रिभुज संख्या																		
1 भाग	a, b, c, d, e, f, g, h, i, j	10																		
2 भाग	ab, de, gh	3																		
4 भाग	ijcf	1																		
10 भाग	ABC	1																		
		जम्मा = 15																		
४०.	D	<div style="text-align: center;"> </div> <p>अतः N लाई Y ले नातिनी भन्नुपर्छ ।</p>																		
४१.	A	<p>विकल्प (A) मा कालो विन्दु कोणको नजिकै रहेको छ जबकी अन्य विकल्पहरूमा कालो विन्दु कोणको सम्मुखमा केही पर (टाढा) रहेको छ ।</p>																		
४२.	C	<div style="text-align: center;"> </div>																		
४३.	D																			
४४.	C	<p>बेलुकाको समयमा सबै बस्तुको छायाँ पूर्वतिर देखिन्छ । अब रियाको छायाँ पूर्वतिर र उनैको बायाँतर्फ हुनु पर्‍यो । यसको लागि दक्षिणतर्फ फर्केको हुनुपर्छ । तसर्थ, प्रिया उत्तर दिशातर्फ फर्केकी थिइन् ।</p> <div style="text-align: center;"> </div>																		
४५.	B																			
४६.	B	<p>दक्षिणकाली बाहेक अरु सबै धार्मिक क्षेत्रहरू विश्व सम्पदा सुचिमा सुचिकृत रहेका छन् ।</p>																		
४७.	E	<p>दोस्रो चित्र पहिलो चित्रको mirror image को रूपमा रहेको छ ।</p>																		
४८.	B	<div style="text-align: center;"> </div>																		

४९.	B	
५०.	D	Curved line हरु straight line को रुपमा र straight line हरु curved line को रुपमा अगाडि बढेका छन् ।

सेट - १७

- चन्द्रमासको अवधी कति हुन्छ ?
A) २७ दिन ७ घण्टा ४३ मिनेट ११.४७ सेकेन्ड
B) २९ दिन ७ घण्टा ४३ मिनेट ११.४७ सेकेन्ड
C) २७ दिन ७ घण्टा ४५ मिनेट ११.४७ सेकेन्ड
D) २७ दिन ७ घण्टा ३७ मिनेट १२ सेकेन्ड
- विश्वको सबैभन्दा अग्लो बाँध रोगुवस्की कुन देशमा पर्छ ?
A) रुस
B) जर्मनी
C) फ्रान्स
D) ब्राजिल
- जोडा मिलाई कोडबाट सही उत्तर दिनुहोस् ।
a) सेन्ट किट्स एन्ड नेभिस 1. युरोप
b) ट्रिनिडाड एन्ड टोबागो 2. अष्ट्रेलिया
c) भ्याटीकन सिटी 3. दक्षिण अमेरिका
d) नाउरु 4. उत्तर अमेरिका
A) a-4, b-3, c-1, d-2 B) a-3, b-4, c-2, d-1 C) a-3, b-2, c-4, d-1 D) a-4, b-3, c-2, d-1
- विश्वको सर्वोच्च टाकुरा सगरमाथा सोलुखुम्बु जिल्लाको कुन गाउँपालिकामा पर्दछ ?
A) नाम्चे
B) स्याङबोचे
C) खुम्बु पासाङल्हामु
D) खुम्जुङ
- नेपालको कुल अन्तराष्ट्रिय सिमाना कति रहेको छ ?
A) २६२९ कि.मि.
B) २९२६ कि.मि.
C) २२९६ कि.मि.
D) २६९२ कि.मि.
- गोरखाको ताघवाइ गुम्बामा रहेको आदित्य मल्लको ताम्रपत्र कुल कालको नमुना हो ?
A) प्राथमिक काल
B) माध्यमिक काल
C) आधुनिक काल
D) लिच्छवीकाल
- कुन भनाई गलत हो/हुन् ?
i) नेपालको सबैभन्दा पुरानो मन्दिर पशुपतिनाथलाई मानिन्छ ।
ii) शिलालेखमा स्वस्ती नेपालेश्य (नेपालको कल्याणहोस्) लेखे राजा उदयदेव हुन् ।
iii) तिब्बतमा शरण लिने लिच्छवी राजा वसन्तदेव हुन् ।
iv) अंशुवर्मा ठकुरी वंशका थिए ।
A) i, ii र iv मात्र B) iv मात्र C) i, ii र iii मात्र D) माथिका सबै गलत
- विकासका लागि १० वर्षे Priority Investment Plan कुन योजनादेखि कार्यान्वयन भएको हो ?
A) सातौं
B) नवौं
C) एघारौं
D) तेह्रौं
- देहायका भनाई अध्ययन गरी गलत भनाई रोज्नुहोस् ।
i) वाणिज्यको खैरो कागज भनेर सनपाटलाई चिनिन्छ ।
ii) पहाडमा चिया उत्पादन गर्ने प्रविधिलाई अर्थोडक्स भनिन्छ ।
iii) नेपालमा उत्पादन हुने प्रमुख दलहन बाली केराउ हो ।
iv) नेपालको चियाले देशको ४५ प्रतिशत माग मात्र पूरा गर्छ ।
A) i, ii र iv मात्र B) ii र iv मात्र C) iv मात्र D) iii मात्र
- Aerobic भनेको के हो ?
A) अक्सिजन युक्त वातावरण
B) वातावरण सम्बन्धी खोज अनुसन्धान गर्ने एक गैरसरकारी संस्था
C) एक प्रकारको गुणस्तर चिन्ह
D) अन्त्यर्कटिकाको आकाशमाथि परेको प्वाल

११. देहायका मध्ये कुन बनाई गलत छ ?
- A) सन् १९२१ मा आइन्सटाइनलाई भौतिक शास्त्रतर्फको नोबेल पुरस्कार प्रदान गरिएको थियो ।
 B) अल्बर्ट आइन्सटाइन अविवाहित थिए ।
 C) आइन्सटाइनको मस्तिष्कलाई प्रिन्सटन अस्पताल (अमेरिकामा) राखिएको छ ।
 D) कुनै वस्तुको गति प्रकाशको गति बराबर हुन सक्छ तर त्यो भन्दा बढी हुन सक्दैन भन्ने आइन्सटाइनको गतिको जोडको सिद्धान्त हो ।
१२. सार्कको पर्यवेक्षकमा नपर्ने देश तलका मध्ये कुन हो ?
- A) रुस B) म्यानमार C) मौरिसस D) जापान
१३. नेपालसंग दौत्य सम्बन्ध कायम भएको मितिले तलको कुन क्रम सही छ ?
- A) मलेसिया, कुवेत, कतार, सिंगापुर B) सिंगापुर, कुवेत, कतार, मलेसिया
 C) मलेसिया, सिंगापुर, कुवेत, कतार D) सिंगापुर, मलेसिया, कुवेत, कतार
१४. डिप स्टिक टेस्ट कुन अंगमा लाग्ने रोगसँग सम्बन्धित रहेको छ ?
- A) मृगौला B) कलेजो C) आँखा D) मस्तिष्क
१५. तलका मध्ये कुन-कुन सही छ ?
1. 18 औँ एसियाडको नारा Energy of Asia हो ।
 2. 18 औँ एसियाड जापानमा सम्पन्न भएको हो ।
- A) 1 मात्र B) 2 मात्र C) दुवै सही D) दुवै बेठीक
१६. पक्राउ गरिएको व्यक्तिलाई पक्राउ भएको समय तथा स्थानबाट बाटोको म्याद बाहेक चौबीस घण्टाभित्र मुद्दा हेर्ने अधिकारीसमक्ष उपस्थित गराउनुपर्ने व्यवस्था कुन मौलिक हकअन्तर्गत पर्दछ ?
- A) न्यायसम्बन्धी हक B) निवारक नजरबन्दविरुद्धको हक
 C) यातनाविरुद्धको हक D) सवैधानिक उपचारको हक
१७. नेपालमा कागजी नोट प्रयोगमा ल्याउने राजा को हुन् ?
- A) धीर शमशेर B) चन्द्र शमशेर
 C) पद्म शमशेर D) जुद्ध शमशेर
१८. तल दिइएका ब्रिच बिच जोडा मिलाउनुहोस् ।
- | प्रथम महिला | नाम | देश |
|----------------------------|---------------------------|-----------------|
| a. अन्तरिक्ष यात्री | I. बेनिजिर भुट्टो | i. रुस |
| b. राष्ट्रपति | II. मिले इलिस डेरोच | ii. अर्जेन्टिना |
| c. कम उमेरकी प्रधानमन्त्री | III. श्रीमती इसावेला पेरो | iii. फ्रान्स |
| d. पाइलट | IV. भेलेन्टिना तेरेस्कोभा | iv. पाकिस्तान |
- A. a-II-i, d-III-iii, c-IV-iv, b-I-ii
 B. a-IV-i, d-II-iii, c-I-iv, b-III-ii
 C. b-II-iv, c-I-ii, d-III-i, a-IV-iii
 D. a-II-iv, d-I-ii, c-III-i, b-IV-iii
१९. तल दिइएका प्रदेशहरूका बारेमा विचार गर्नुहोस् ।
१. प्रदेश नम्बर १ २. बागमती ३. गण्डकी ४. कर्णाली
- माथि दिइएको प्रदेशहरूमध्ये कुन प्रदेशको चिनसँग सिमाना जोडिएको छ तर भारतसँग सिमाना जोडिएको छैन ?
- A) १, ३ र ४ मात्र B) १ मात्र C) ४ मात्र D) सबै
२०. म्याग्नाकार्टामा अनुसूची बाहेक कति धारा रहेका छन् ?
- A) ६१ धारा B) ६२ धारा C) ६३ धारा D) ६४ धारा
२१. विश्व पर्यटन संगठन (UNWTO) को प्रधान कार्यालय कहाँ रहेको छ ?
- A) जेनेभा, स्विट्जरल्याण्ड B) वासिङ्गटन डि.सि., अमेरिका
 C) मन्ट्रियल, क्यानडा D) म्याड्रिड, स्पेन