

लोक सेवा आयोग

अप्राविधिक तर्फका राजपत्रअनकित द्वितीय श्रेणी, खरिदार वा सोसरह पदको प्रथम चरणको संयुक्ता र एकीकृत
प्रतियोगितात्मक लिखित परीक्षा

२०७६/१/१४

विषय : सामान्य ज्ञान र सामान्य बौद्धिक परीक्षण
(General Knowledge and General Mental Ability Test)

१. जोडा मिलाउनु होस् ।

सूची I

a) पृथ्वीसुब्बा गुरुङ

b) शेरधन राई

c) डोरमणी पौडेल

d) त्रिलोचन भट्ट

(A) a-1, b-2, c-3, d-4

(C) a-4, b-1, c-3, d-2

२. नेपालको प्रधानमन्त्रीबाट 'प्रधानमन्त्री रोजगार कार्यक्रम' को शुभारम्भ कहिले भयो ?

(A) २०७५ चैत्र १

(C) २०७५ पौष १

सूची II

१) प्रदेश नं. १

२) सुदूर पश्चिम

३) प्रदेश नं. ३

४) गण्डकी प्रदेश

(B) a-2, b-3, c-4, d-1

(D) a-4, b-1, c-2, d-3

३. नेपालको पहिलो दैनिक पत्रिका कुन हो ?

(A) आवाज

(C) शक्तिसुधा

(B) गोरखापत्र

(D) कालपृष्ठ

४. गौतम बुद्धको जन्म कहिले भएको थियो ?

(A) इशापूर्व ५४७

(C) इशापूर्व ५५७

(B) इशापूर्व ५५३

(D) इशापूर्व ५६३

५. माल्दिभ्सको राजधानी कुन हो ?

(A) मलावा

(C) म्यानमार

(B) माले

(D) मडागास्कर

६. 'कर्नर किक' भन्ने शब्द कुन खेलमा प्रयोग हुन्छ ?

(A) फुटबल

(C) बक्सिङ

(B) बास्केटबल

(D) भलिबल

७. G2G अवधारणा के सँग सम्बन्धित छ ?

(A) वैदेशिक रोजगारी

(C) खाद्य संप्रभुता

(B) शिक्षा

(D) स्वास्थ्य

८. सन् २०१८ को २१ औं विश्वकप फुटबलको उपाधि कसले जितेको थियो ?

(A) जर्मनी

(C) क्रोएसिया

(B) कोष्टारिका

(D) फ्रान्स

9. विहानको तारा भनेर कुनलाई भनिन्छ ?
 (A) शुक्र (B) बृहस्पति
 (C) बुध (D) मंगल
10. हरेक एक डिग्री देशान्तरमा कति समय फरक हुन्छ ?
 (A) दुई मिनेट (B) चार मिनेट
 (C) छ मिनेट (D) आठ मिनेट
11. विश्वको सबैभन्दा लामो हिमनदी कुन हो ?
 (A) किलिमान्जरो (B) लाम्वार्ट
 (C) हवार्ड (D) सियाचेन
12. क्षेत्रफलको आधारमा सानोबाट ठूलो महासागरहरूको क्रम कुन सही हो ?
 (A) प्रशान्त-आन्ध्र-हिन्द-कुमेरु-सुमेरु
 (B) सुमेरु-कुमेरु-आन्ध्र-हिन्द-प्रशान्त
 (C) कुमेरु-सुमेरु-हिन्द-आन्ध्र-प्रशान्त
 (D) सुमेरु-कुमेरु-हिन्द-आन्ध्र-प्रशान्त
13. समूह I र II बीच जोडा मिलाई कोडबाट सही उत्तर छान्नु होस् ।
 समूह I समूह II
 a) कल्लभुवन ताल 1) मुस्ताङ
 b) दामोदर कुण्ड 2) कपिलवस्तु
 c) जगदिशपुर ताल 3) गोरखा
 d) इन्द्रसरोवर 4) मकवानपुर
 (A) a-1, b-2, c-3, d-4 (B) a-2, b-1, c-2, d-4
 (C) a-4, b-3, c-2, d-1 (D) a-1, b-3, c-2, d-4
14. चीन र भारत दुबै देशलाई छुने नेपालका कुन कुन जिल्लाहरू हुन् ?
 (A) ताप्लेजुङ र डडेल्धुरा
 (B) दार्चुला र इलाम
 (C) ताम्लेजुङ र दार्चुला
 (D) भ्यापा र दार्चुला
15. स्लेटको लागि प्रसिद्ध ठाउँ कुन हो ?
 (A) बन्दीपुर (B) गोदावरी
 (C) चौतारा (D) गणेश हिमाल
16. गणतन्त्र भारतको प्रथम प्रधानमन्त्री को हुन् ?
 (A) गुलजारीलाल नन्दा (B) मोरारजी देसाई
 (C) जवाहरलाल नेहरू (D) महात्मा गान्धी
17. मातृकाप्रसाद कोइराला कतिपटक नेपालका प्रधानमन्त्री भएका थिए ?
 (A) एक पटक (B) दुई पटक
 (C) तिन पटक (D) चार पटक

18. Malaria : Mosquito :: ?

(A) Poison : Death

(B) Rat : Plague

(C) Cholera : Water

(D) Medicine : Disease

19. अन्य भन्दा फरक शब्दलाई रोज्नुहोस् ।

(A) Treachery

(B) Praud

(C) Decelt

(D) Morbid

20. राजन आफ्नो घरबाट पश्चिम दिशातिर हिड्न थाल्छ । 30 मिटर हिँडेपछि ऊ दायोँ फर्किन्छ र 15 मिटर हिँड्छ । त्यसपछि ऊ फेरी दायोँ फर्किन्छ र 10 मिटर हिँड्छ । त्यसपछि ऊ आफ्नो दायोँतिर 90° को कोणमा फर्किएर हिँडिरहेको छ भने ऊ कुन दिशातिर फर्किरहेको छ ?

(A) उत्तर

(B) दक्षिण

(C) पूर्व

(D) पश्चिम

21. यदि कोठालाई ओछ्यान, ओछ्यानलाई आकाश, आकाशलाई फूल, फूललाई रुख भनिन्छ भने मान्छे केमा सुन्छ ?

(A) ढोकामा

(B) ओछ्यानमा

(C) फूलमा

(D) आकाशमा

22. केही केटाहरू पक्तिमा उभिरहेका छन् । कमल दायोँबाट चौथो स्थानमा छ र रिसब दायोँबाट आठौँ स्थानमा छ । यदि कमल र रिसबको बीचमा चारजना केटाहरू छन् भने पक्तिमा कति जना केटाहरू छन् ?

(A) 19

(B) 21

(C) 25

(D) 26

23. राणाकालिन दर्ज्यानी चिन्हलाई टूलोबाट सानोको क्रममा (माथिल्लोबाट तल्लो दर्जामा) मिलाउनुहोस् ।

a) सुब्बा

b) मीरसुब्बा

c) डिदठा

d) नायब सुब्बा

(A) b, a, d, c

(B) a, d, c, b

(C) d, b, a, c

(D) b, d, c, a

24. इन्द्रजात्राको चलन कसले चलाएका हुन् ?

(A) जयप्रकाश मल्ल

(B) प्रताप मल्ल

(C) रत्न मल्ल

(D) रणजित मल्ल

25. समूह I र II बीच जोडा मिलाई कोडबाट सही उत्तर छान्नु होस् ।

समूह I

समूह II

a) मकैको खेती

1) डायमन शम्सेर

b) सेतो बाघ

2) कृष्णलाल अधिकारी

c) चपाइएका अनुहार

3) माधवप्रसाद घिमिरे

d) विषकन्या

4) दौलतविक्रम विष्ट

(A) a-2, b-1, c-4, d-3

(B) a-1, b-2, c-3, d-4

(C) a-4, b-3, c-2, d-1

(D) a-1, b-2, c-4, d-3

26. नेपाली भाषाको उद्गमस्थल कुन हो ?

(A) दुम्जा

(B) सिञ्जा

(C) चुँदीरम्घा

(D) दुल्लु

27. विदेशी र नेपालीहरूको संयुक्त पुँजी लगानी गरी सञ्चालन भएको नेपालको पहिलो बैंकको नाम के हो ?
 (A) हिमालयन बैंक
 (B) नेपाल अरब बैंक
 (C) नेपाल बंगलादेश बैंक
 (D) नेपाल एस.वि.आई. बैंक
28. जोडा मिलाई सही उत्तर छान्नु होस् ।
 सूची I
 a) मारुनी नाच
 b) कौरा नाच
 c) धान नाच
 d) सोरठी नाच
 (A) a-2, b-4, c-3, d-1
 (C) a-3, b-4, c-1, d-2
- सूची II
 1) गुरुङ
 2) लिम्बु
 3) तामाङ्ग
 4) मगर
 (B) a-3, b-4, c-2, d-1
 (D) a-1, b-3, c-2, d-4
29. राष्ट्रिय जनगणना, 2068 अनुसार नेपालमा बोलिने भाषालाई बढ्दो क्रममा राखा तलकामध्ये कुन विकल्प सही हो ?
 (A) नेवार, तामाङ्ग, मगर, थारू
 (B) मगर, नेवार, तामाङ्ग, थारू
 (C) थारू, मगर, तामाङ्ग, नेवार
 (D) तामाङ्ग, थारू, मगर, नेवार
30. तल दिएका विकल्पमध्ये तापको सबैभन्दा कमजो र सुचालक कुन हो ?
 (A) चाँदी
 (B) तामा
 (C) लिड
 (D) पारो
31. जैविक विविधता क्षेत्रमा सबैभन्दा धनी राष्ट्र कुन हो ?
 (A) केन्या
 (B) स्वीटजरल्याण्ड
 (C) इन्डोनेशिया
 (D) मलेसिया
32. तल दिइएको क्रममा प्रश्नचिन्ह (?) राखिएको ठाउँमा के हुन्छ ?
 9, 8, 18, 6, 36, 4, 72, 2, 144, ?
 (A) 0
 (B) 1
 (C) 288
 (D) माथिको कुनै पनि होइन
33. दिइएको विकल्पहरूमध्ये प्रश्नमा रहेको खाली स्थान (?) लाई पूरा गर्ने उपयुक्त विकल्प छान्नुहोस् ।
 30 : 135 :: 24 : ?
 (A) 108
 (B) 120
 (C) 144
 (D) 156
34. एक लहरमा 25 रुखहरू एक अर्कोमा बराबर दुरीमा हुने गरी रोपिएको छ । 1st र 2nd रुख विचको दूरी 25m छ भने 3rd र 15th रुख बीचको दुरी कति छ ?
 (A) 14.4 m
 (B) 15 m
 (C) 15.6m
 (D) 16m

35. एउटा लिफ्टमा रहेका 6 जनाको औसत तौल 120 के.जी. र अर्को लिफ्टमा रहेका 4 जनाको औसत तौल 106 के.जी. छ भने दुबै लिफ्टमा रहेको जम्मा मानिसको औसत तौल कति होला ?
 (A) 112.2 (B) 120.2
 (C) 114.4 (D) 113

36. दिइएकामध्ये कुन अंकले खाली स्थान (?) लाई पुरा गर्दछ ?

8		6
	8	
7		8

7		5
	?	
6		4

- (A) 11 (B) 14
 (C) 18 (D) 22
37. दिगो विकासका 17 वटा लक्ष्यमध्ये 5औं लक्ष्य के हो ?
 (A) No poverty (B) Clean water and sanitation
 (C) Gender equality (D) Life on land
38. कुन रक्त समूह भएका व्यक्तिलाई विश्वव्यापी रक्तदाता भनिन्छ ?
 (A) A (B) B
 (C) AB (D) O
39. जलवायु परिवर्तनको प्रभाव कम गर्नका लागि विश्वको ध्यानाकर्षण गर्न पानीमुनि मन्त्रिपरिषद्को बैठक गर्ने राष्ट्र कुन हो ?
 (A) श्रीलंका (B) जापान
 (C) भारत (D) माल्दिभ्स
40. तलका समूहबीच जोडा मिलाई कोडबाट सही उत्तर छान्नु होस्।
 समूह I जातजाति समूह II जनसंख्या %
 a) क्षेत्री (Kshetri) 1) 4.4%
 b) मगर (Magar) 2) 16.6%
 c) थारू (Tharu) 3) 7.12%
 d) मुसलमान (Muslim) 4) 6.56%
 (A) a-2, b-3, c-1, d-4 (B) a-2, b-4, c-3, d-1
 (C) a-2, b-1, c-3, d-4 (D) a-2, b-3, c-4, d-1
41. क्षेत्रफलको आधारमा सबैभन्दा ठूलो राष्ट्रिय निकुञ्ज कुन हो ?
 (A) मकालु-बरुण (B) खप्तड
 (C) बाँके (D) रारा
42. नेपालमा हाल कायम रहेका महानगरपालिका, उप-महानगरपालिका, नगरपालिका र गाउँपालिकाका संख्या तलकामध्ये कुन ठिक हो ?
 (A) 6, 11, 275, 461 (B) 6, 11, 276, 460
 (C) 5, 12, 276, 460 (D) 7, 10, 275, 461

43. स्थानीय तह भन्नाले के बुझिन्छ ?

- (A) गाउँसभा, नगरसभा र जिल्लासभा
 (B) गाउँपालिका, नगरपालिका र जिल्लासमन्वय समिति
 (C) गाउँपालिका, नगरपालिका र जिल्लासभा
 (D) माथिका सबै

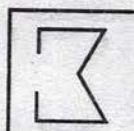
44. संयुक्त राष्ट्र संघीय विश्व पर्यटन संगठन (UNWTO) को प्रधान कार्यालय कहाँ रहेको छ ?

- (A) स्पेनको मेड्रिडमा
 (B) इटलीको रोममा
 (C) फ्रान्सको पेरिसमा
 (D) स्विटजरल्याण्डको जेनेभा


45. संयुक्त राष्ट्र संघको महत्वपूर्ण अंग सुरक्षा परिषद्का स्थायी सदस्य राष्ट्रहरू कुन कुन हुन् ?

- (A) चीन, रुस, अमेरिका, वेलायत र जर्मनी
 (B) चीन, रुस, अमेरिका, वेलायत र फ्रान्स
 (C) रुस, अमेरिका, वेलायत, फ्रान्स र जापान
 (D) अमेरिका, जापान, जर्मनी, फ्रान्स र वेलायत


46.



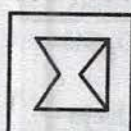
दिइएको विकल्पहरूमध्ये कुनमा ममाथि दिइएको चित्र समावेश भएको छ ?



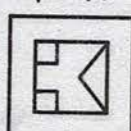
A



B



C



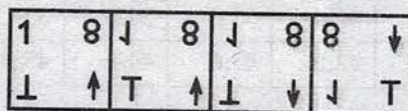
D

47. Problem Figure मा भएको क्रमको नियम जस्तै क्रममा रहने एउटा चित्र Answer Figure बाट रेज्नुहोस्।

Problem Figures



Answer Figures




A

B

C

D

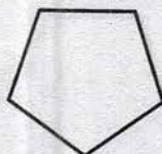
48. समूहमा नमिल्ने पत्ता लगाउनुहोस्।



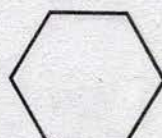
A



B

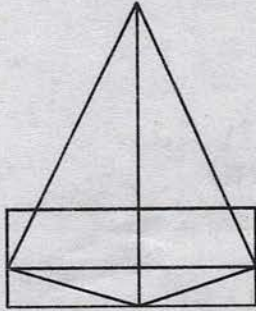


C



D

49. तल दिइएको चित्रमा त्रिभुजहरूको संख्या पत्ता लगाउनुहोस् ।



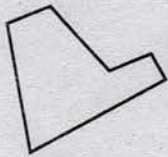
(A) 11

(B) 13

(C) 15

(D) 17

50. तल दिइएका 1, 2, 3, 4, र 5 नाम अंकित चित्रहरूमध्ये कुन कुन तिनवटा चित्रहरूबाट एउटा वर्गचित्र बनाउन सकिन्छ ? रेज्नुहोस् ।



1



2



3



4



5

(A) 134

(B) 135

(C) 234

(D) 245

Answer Keys

1.C	2.B	3.A	4.D	5.B	6.A	7.A	8.D	9.A	10.B
11.B	12.D	13.B	14.C	15.A	16.C	17.B	18.C	19.D	20.B
21.D	22.D	23.A	24.A	25.A	26.B	27.C	28.B	29.C	30.C
31.C	32.A	33.A	34.B	35.C	36.D	37.C	38.D	39.D	40.D
41.A	42.B	43.C	44.A	45.B	46.B	47.D	48.A	49.C	50.D